

Topográfiai feladatgyűjtemény

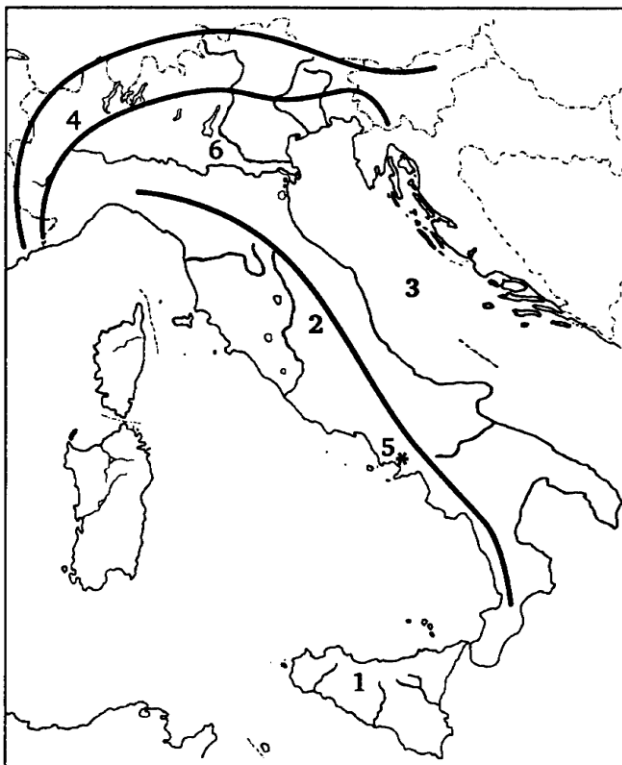
A feladatok megoldásához atlasz nem használható.

1. FELADATSOR

I. rész

A feladatlap-rész megoldásához atlasz nem használható!

1. Oldja meg a feladatokat a térképvázlat alapján! (9 pont)



a) Nevezze meg a térképen számokkal jelölt részeket! (6 pont)

- 1. sziget
- 2. hegység
- 3. tenger
- 4. hegység
- 5. vulkán
- 6. folyó

b) Válaszoljon a kérdésekre!

1. Mi a hasonlóság a térképvázlaton jelölt hegységek között? (1 pont)

.....

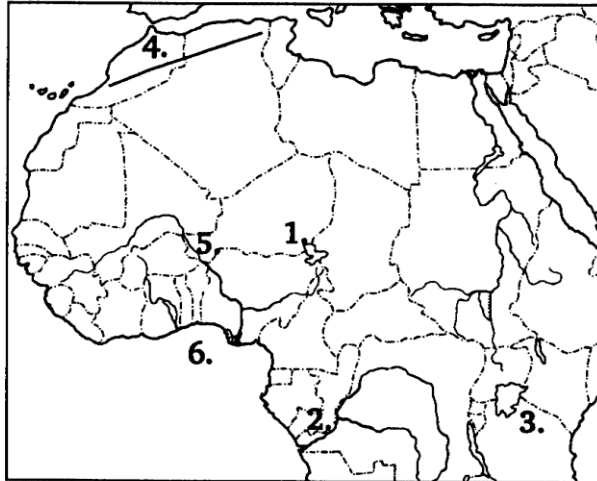
2. Milyen torkolatú a 6. számmal jelölt folyó? Válaszát indokolja! (2 pont)

.....

.....

2. Oldja meg a feladatokat a térképészvázlat alapján!

(8 pont)



a) Nevezze meg a térképen számokkal jelölt részeket! (6 pont)

- 1. -tó
- 2. folyó
- 3. -tó
- 4. hegység
- 5. folyó
- 6. - öböl

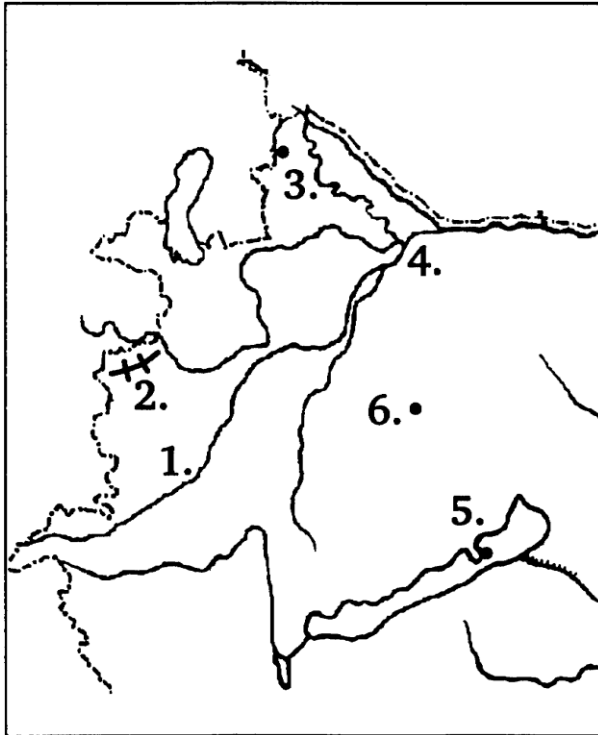
b) Válaszoljon a térkép számaival a következő kérdésekre!

(2 pont)

- 1. Árkos vetődéssel keletkezett.
- 2. A folyó vízjárása egyenletes.

3. Oldja meg a feladatokat a térképvázlat alapján!

(8 pont)



a) Nevezze meg a térképen számokkal jelölt részeket! (6 pont)

- 1. folyó
- 2. hegység
- 3. város
- 4. medence
- 5. város
- 6. város

b) Válaszoljon a térkép számaival a következő kérdésre!

(1 pont)

Idegenforgalmi, kulturális központ.

c) Nevezze meg a 2. számmal jelölt hegység fő felépítő kőzetét!

(1 pont)

.....

MEGOLDÁSOK

1. FELADATSOR

I. rész

1. feladat (9 pont)

- a) 1. Szicília
2. Appenninek
3. Adriai-tenger
4. Alpok
5. Vezúv
6. Pó-folyó 6 pont
- b) 1. mindkettő az Eurázsiai-hegységrendszer tagja / fiatal lánchegység 1 pont
2. delta torkolat, mert beltengerbe ömlik / nem érvényesül az árapály 2 pont

2. feladat (8 pont)

- a) 1. Csád-tó
2. Kongó folyó
3. Viktória-tó
4. Atlasz-hegység
5. Niger folyó
6. Guineai-öböl 6 pont
- b) 1. 3. 1 pont
2. 2. 1 pont

3. feladat (8 pont)

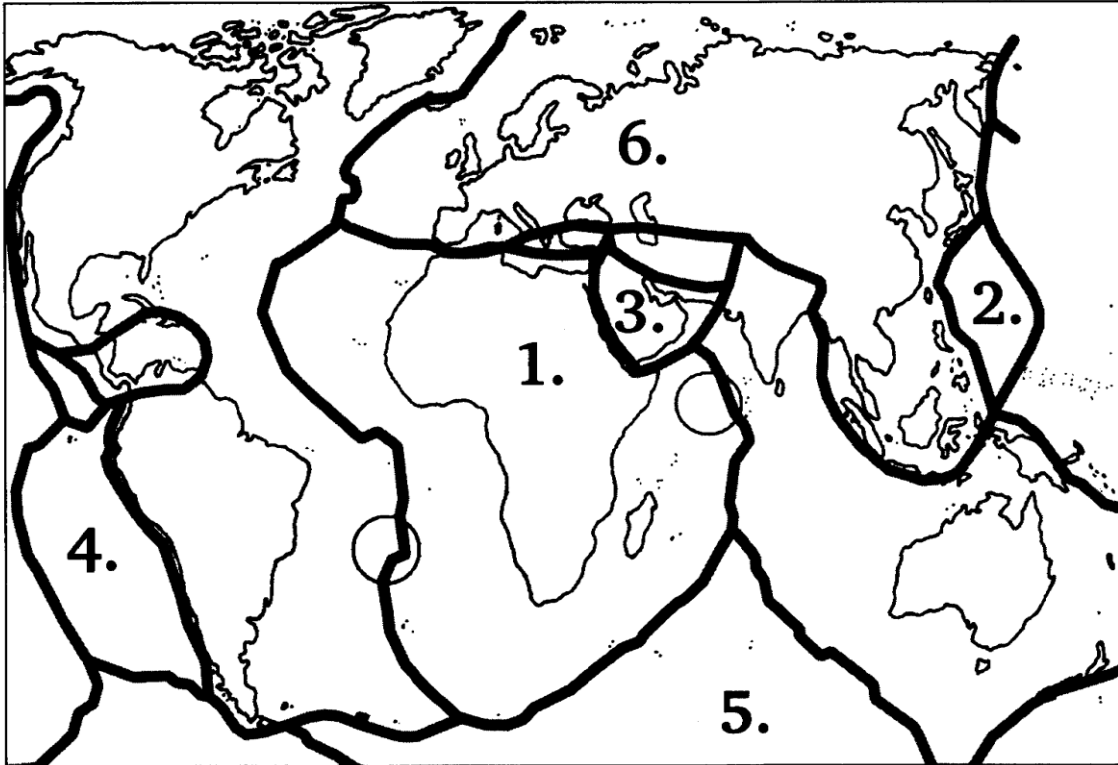
- a) 1. Rába
2. Kőszegi-hegység
3. Hegyeshalom
4. Győri-medence
5. Tihany
6. Pápa 6 pont
- b) 5 1 pont
- c) átalakult / palás / kristályos kőzetek 1 pont

2. FELADATSOR

I. rész

A feladatlap-rész megoldásához atlasz nem használható!

1. Oldja meg a feladatokat a térképvázlat alapján! (8 pont)
a) Nevezze meg a számokkal jelölt kőzetlemezeket! (6 pont)



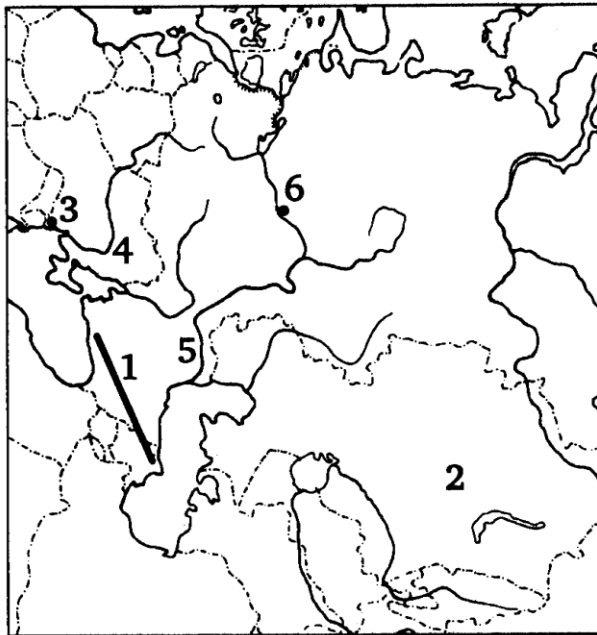
1. lemez
2. lemez
3. lemez
4. lemez
5. lemez
6. lemez

- b) Jelölje be a térképvázlatban jelölt körökbe, hol milyen mozgás figyelhető meg a kőzetlemezeknél. Írja a megfelelő számot a megfelelő helyre! (2 pont)

7-es számot írjon, ahol a kőzetlemez mozgása: \leftrightarrow
8-as számot írjon, ahol a kőzetlemez mozgása: $\rightarrow\leftarrow$

2. Oldja meg a feladatokat a térképvázlat alapján!

(9 pont)



a) Nevezze meg a térképen számokkal jelölt részeket! (6 pont)

- 1. hegység
- 2. terület
- 3. város
- 4. - medence
- 5. folyó
- 6. város

b) Válasszon a térkép számaival a következő kérdésekre!

(2 pont)

1. Ukrajna jelentős nehézipari körzete.

2. Gépgyártás, alumíniumkohászat jelentős központja.

c) Melyik hegységrendszer tagja az 1. számmal jelölt hegység?

(1 pont)

.....

3. Egészítse ki a táblázatban szereplő megyéket székhelyükkel vagy a megyeszékhelyhez adja meg a megyéket! (8 pont)

megye	megyeszékhely
	Szeged
Zala	
Fejér	
	Győr
	Kecskemét
Hajdú-Bihar	
Baranya	
	Szombathely

MEGOLDÁSOK

2. FELADATSOR

I. rész

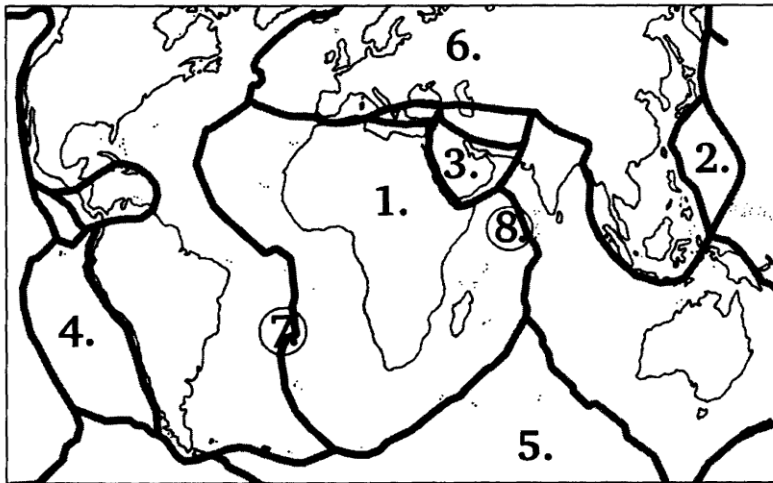
1. feladat

(8 pont)

- a) 1. Afrikai-lemez
2. Fülöp-lemez
3. Arab-lemez
4. Nasca-lemez
5. Antarktisi-lemez
6. Eurázsiai-lemez

6 pont

- b) A számok helyes elhelyezése 1 pont!



2 pont

2. feladat

(9 pont)

- a) 1. Kaukázus
2. Karaganda
3. Odessza
4. Donyec-medence
5. Volga
6. Nyizsnyij Novgorod

6 pont

- b) 1. 4.
2. 6.

1 pont

1 pont

- c) Eurázsiai-hegységrendszer

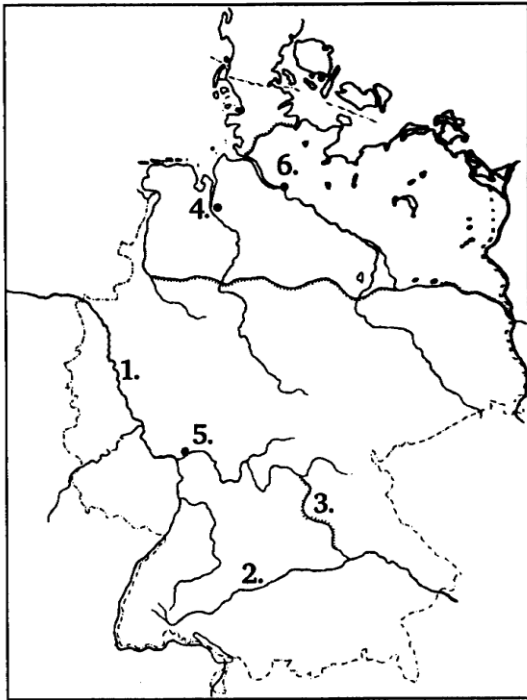
1 pont

3. FELADATSOR

I. rész

A feladatlap-rész megoldásához atlasz nem használható!

1. Oldja meg a feladatokat a térképvázlat alapján! (8 pont)



a) Nevezze meg a térképen számokkal jelölt részeket! (6 pont)

1.folyó

2.folyó

3.csatorna

4.város

5.város

6.város

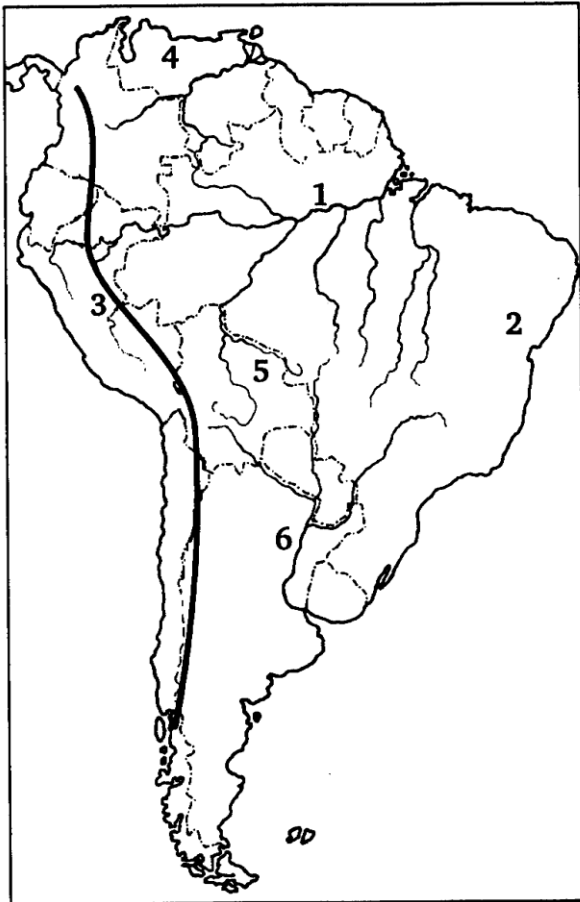
b) Válaszoljon a térkép számaival a következő kérdésekre! (2 pont)

1. Az Elba folyó kikötője.

2. Az Európai Központi Bank itt működik.

2. Oldja meg a feladatokat a térképészvázlat alapján!

(9 pont)



a) Nevezze meg a térképen számokkal jelölt részeket! (6 pont)

- 1.folyó
- 2.ősföld
- 3.hegység
- 4.ország
- 5.ország
- 6.folyó

b) Válaszoljon a kérdésekre!

1. Nevezze meg a 4. számmal jelölt ország fővárosát! (1 pont)

.....

2. Milyen nagy mennyiségű energiahordozóval rendelkezik a 4. számmal jelölt ország? (1 pont)

.....

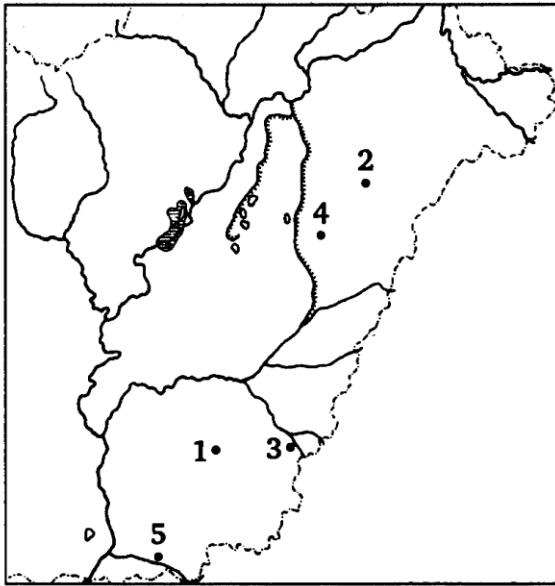
3. Melyik hegységrendszer tagja a 3. számmal jelölt hegység? (1 pont)

.....

3. Oldja meg a feladatokat a térképészlet alapján!

(8 pont)

a) Nevezze meg, hogy mely városokat jelölik a számok a térképészletben!(5 pont)



- 1.
- 2.
- 3.
- 4.
- 5.

b) Válaszoljon a kérdésekre!

1. Milyen turizmus jellemző egész évben a 3. és 4. számú városokra?
(1 pont)

.....

2. Nevezze meg az 5. számú városra jellemző természetett növényt!
(1 pont)

.....

3. Nevezze meg, melyik megye székhelye a 2. számmal jelölt település!
(1 pont)

.....

MEGOLDÁSOK

3. FELADATSOR

I. rész

- 1. feladat** (8 pont)
- a) 1. Rajna
2. Duna
3. Rajna-Majna-Duna csatorna
4. Bréma
5. Frankfurt
6. Hamburg 6 pont
- b) 1. 4. 1 pont
2. 5. 1 pont
- 2. feladat** (9 pont)
- a) 1. Amazonas
2. Brazil-ősföld
3. Andok
4. Venezuela
5. Bolívia
6. Parana 6 pont
- b) 1. Caracas 1 pont
2. kőolaj 1 pont
3. Pacifikus-hegységrendszer 1 pont
- 3. feladat** (8 pont)
- a) 1. Békéscsaba
2. Debrecen
3. Gyula
4. Hajdúszoboszló
5. Makó 5 pont
- b) 1. gyógyvízre épülő turizmus/gyógyturizmus 1 pont
2. hagyma 1 pont
3. Hajdú-Bihar megye 1 pont

4. FELADATSOR

I. rész

A feladatlap-rész megoldásához atlasz nem használható!

1. Válaszoljon a folyók torkolatával kapcsolatos kérdésekre! (8 pont)

a) Hová torkollanak az alábbi folyók? Nevezze meg pontosan a torkolatok helyét! (7 pont)

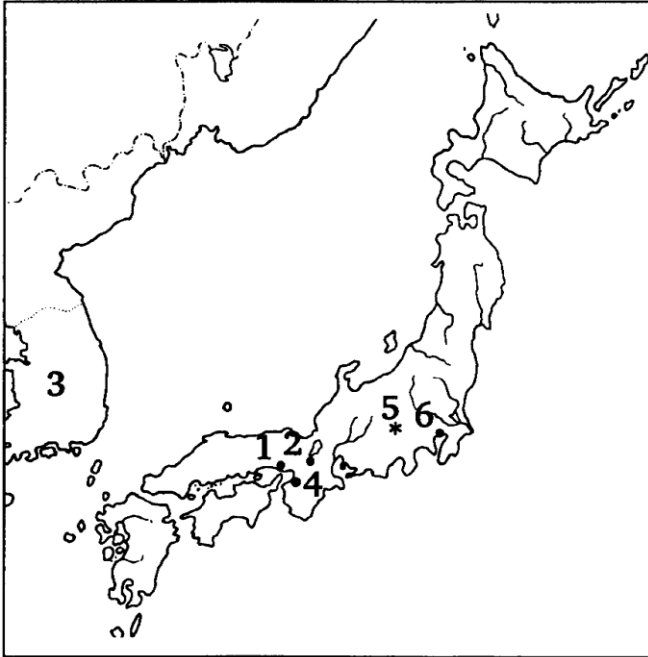
1. Amazonas - óceán
2. Nílus - tenger
3. Eufrátesz/Satt-el-Arab - öböl
4. Ob - tenger
5. Volga - tenger (tó)
6. Temze - tenger
7. Odera - tenger

b) Mely országban ered a Duna? (1 pont)

.....

2. Oldja meg a feladatokat a térképészvázlat alapján! (9 pont)

a) Nevezze meg a térképen számokkal jelölt részeket! (6 pont)



- 1. város
- 2. város
- 3. ország
- 4. város
- 5. vulkán
- 6. város

b) Válaszoljon a kérdésekre!

1. Nevezze meg a **3. számmal** jelölt ország fővárosát! (1 pont)

.....

2. Melyik hegységrendszer húzódik a Japán-szigeteken? (1 pont)

.....

3. Válaszoljon a térkép számával a következő kérdésre! (1 pont)

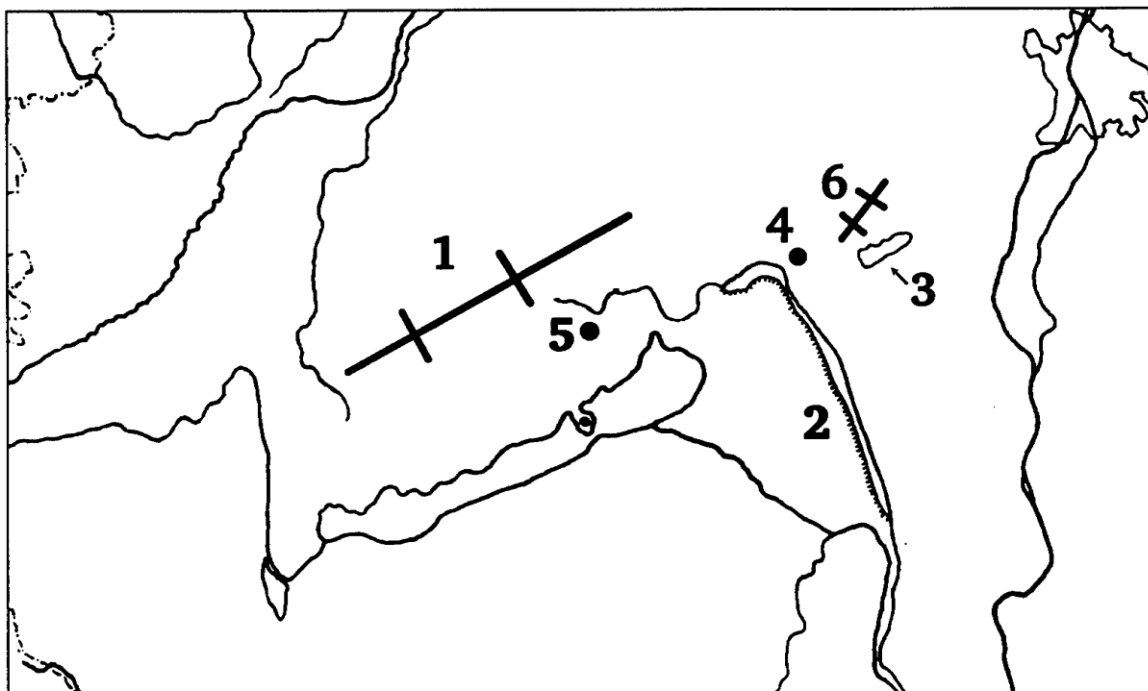
Az ország második legnagyobb gazdasági és pénzügyi központja.

3. Oldja meg a feladatokat a térképészlet alapján!

(8 pont)

a) Nevezze meg a térképen számokkal jelölt részeket!

(6 pont)



1. hegység

2. tájegység

3. -tó

4. város

5. város

6. hegység

b) Válaszoljon a térkép számaival a következő kérdésekre!

(2 pont)

1. Üledékes eredetű kőzet alkotja.

2. Híradástechnikai, elektronikai eszközök gyártó központ.

MEGOLDÁSOK

4. FELADATSOR

I. rész

- 1. feladat** (8 pont)
- a) 1. Atlanti-óceán
2. Földközi-tenger
3. Arab (Perzsa)-öböl
4. Jeges-tenger/Kara-tenger
5. Kaszpi-tenger (tó)
6. Északi-tenger
7. Balti-tenger 7 pont
- b) Németország (Fekete-erdő) 1 pont
- 2. feladat** (9 pont)
- a) 1. Kobe
2. Kyoto
3. Koreai Köztársaság/Dél-Korea
4. Osaka
5. Fuji-vulkán
6. Tokió 6 pont
- b) 1. Szöul 1 pont
2. Pacifikus-hegységrendszer 1 pont
3. 4. 1 pont
- 3. feladat** (8 pont)
- a) 1. Bakony
2. Mezőföld
3. Velencei-tó
4. Székesfehérvár
5. Veszprém
6. Velencei-hegység 6 pont
- b) 1. 1.
2. 4. 2 pont

5. FELADATSOR

I. rész

A feladatlap-rész megoldásához atlasz nem használható!

1. Oldja meg a feladatokat a térképvázlat alapján! (8 pont)

a) Jelölje a térképvázlaton (írjon X-t) az Európai Unió tagállamait! (5 pont)
(Figyelem! 5 ország 1 pont)



b) Sorolja fel az alapító tagállamokat! (3 pont)

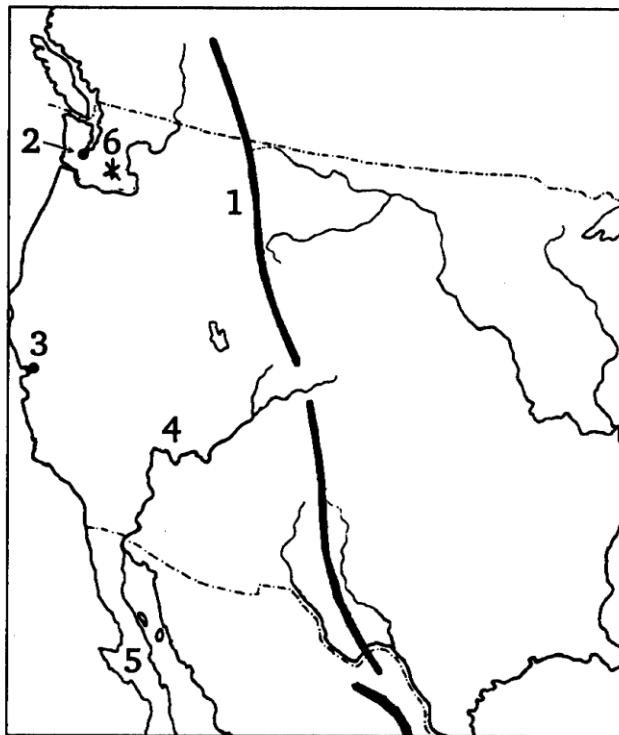
.....
.....
.....

2. Oldja meg a feladatokat a térképvázlat alapján!

(10 pont)

a) Nevezze meg a térképen számokkal jelölt részeket!

(6 pont)



- 1.-hegység
- 2. város
- 3. város
- 4. folyó
- 5. félsziget
- 6. vulkán

b) A feladat az 1. számmal jelölt hegységre vonatkozik! Válaszoljon a kérdésekre!

1. Melyik hegységrendszer tagja?

(1 pont)

.....

2. Milyen belső erő játszott szerepet elsősorban a hegységrendszer kialakulásában?

(1 pont)

.....

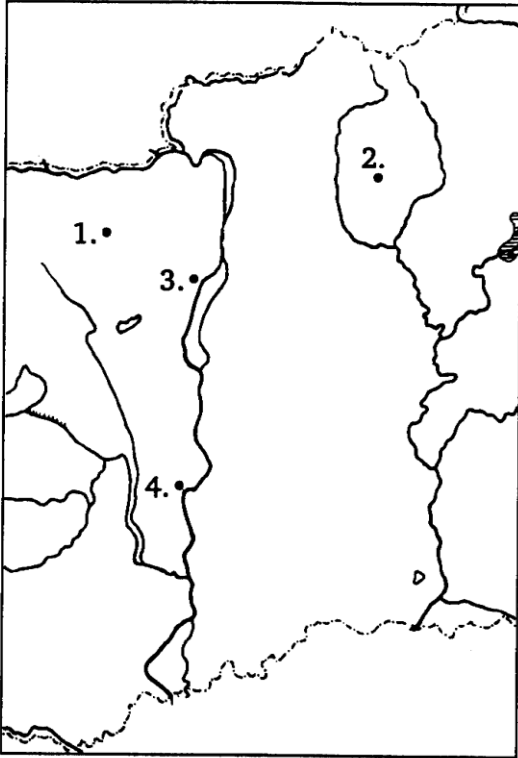
3. Nevezze meg a hegység fő felépítő kőzeteit!

(2 pont)

.....

3. Oldja meg a feladatokat a térképészlet alapján!

(7 pont)



a) Nevezze meg a térképészleten jelölt településeket! (4 pont)

- 1.
- 2.
- 3.
- 4.

b) Válaszoljon a térkép számaival a következő kérdésekre!

(2 pont)

- 1. Import energiahordozó felhasználása jellemző.
- 2. Az ország energiatermelésének több, mint 30%-át biztosítja.

c) Nevezze meg a **2. számmal** jelölt település erőművét fűtő energiahordozót!

(1 pont)

.....

MEGOLDÁSOK

5. FELADATSOR

I. rész

1. feladat

(8 pont)

a) 5 ország 1 pont



5 pont

b) Belgium, Hollandia, Luxemburg, Németország, Olaszország Franciaország
(2 ország 1 pont)

3 pont

2. feladat

(10 pont)

- a) 1. Sziklás-hegység
2. Seattle
3. San Francisco

5. FELADATSOR

- 4. Colorado folyó
 - 5. Kaliforniai-félsziget
 - 6. Mt. St. Helens vulkán
- b) 1. Pacifikus-hegységrendszer
- 2. vulkanizmus
 - 3. andezit, riolit

6 pont
1 pont
1 pont
2 pont

3. feladat**(7 pont)**

- a) 1. Tatabánya
- 2. Visonta
 - 3. Százhalombatta
 - 4. Paks
- b) 1. 3.
- 2. 4.
- c) lignit

4 pont

2 pont
1 pont

6. FELADATSOR

I. rész

A feladatlap-rész megoldásához atlasz nem használható!

1. Oldja meg a feladatokat a térképvázlat alapján! (8 pont)

a) Nevezze meg a térképen számokkal jelölt hegységeket!



1. - hegység
2. - hegység
3. - hegység
4. - hegység
5. - hegység (5 pont)

b) A térképvázlaton jelölt hegységeket csoportosítsa a hegységrendszerek alapján! Írja a térképvázlat számait a négyzetekbe! (3 pont)
(Figyelem! Az egyik hegység több helyre is írható!)

1. Kaledóniai-hegységrendszer

2. Variszkuszi-hegységrendszer

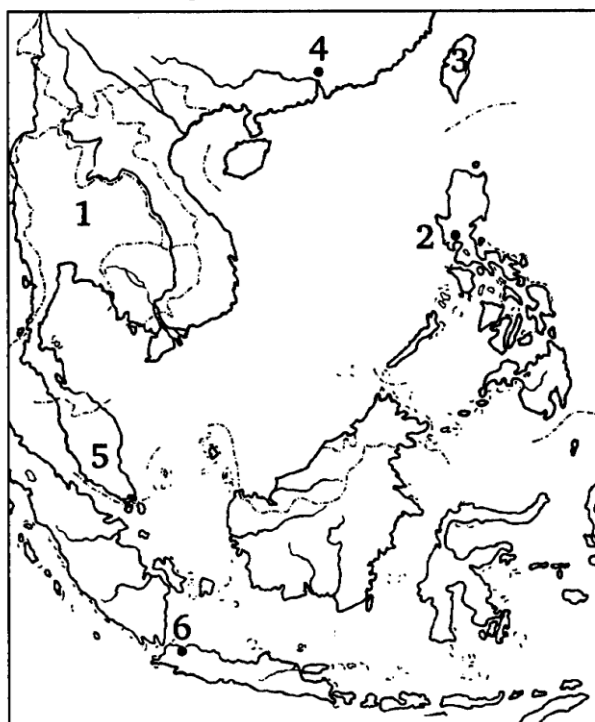
3. Eurázsiai-hegységrendszer

2. Oldja meg a feladatokat a térképészlet alapján!

(9 pont)

a) Nevezze meg a térképen számokkal jelölt részeket!

(6 pont)



1. ország

2. város

3. ország

4. város

5. ország

6. város

b) Válaszoljon a térkép számaival a következő kérdésre!

(1 pont)

Melyik város nem főváros a térképen?

c) Mely közutak húzódnak a térképészleten?

(2 pont)

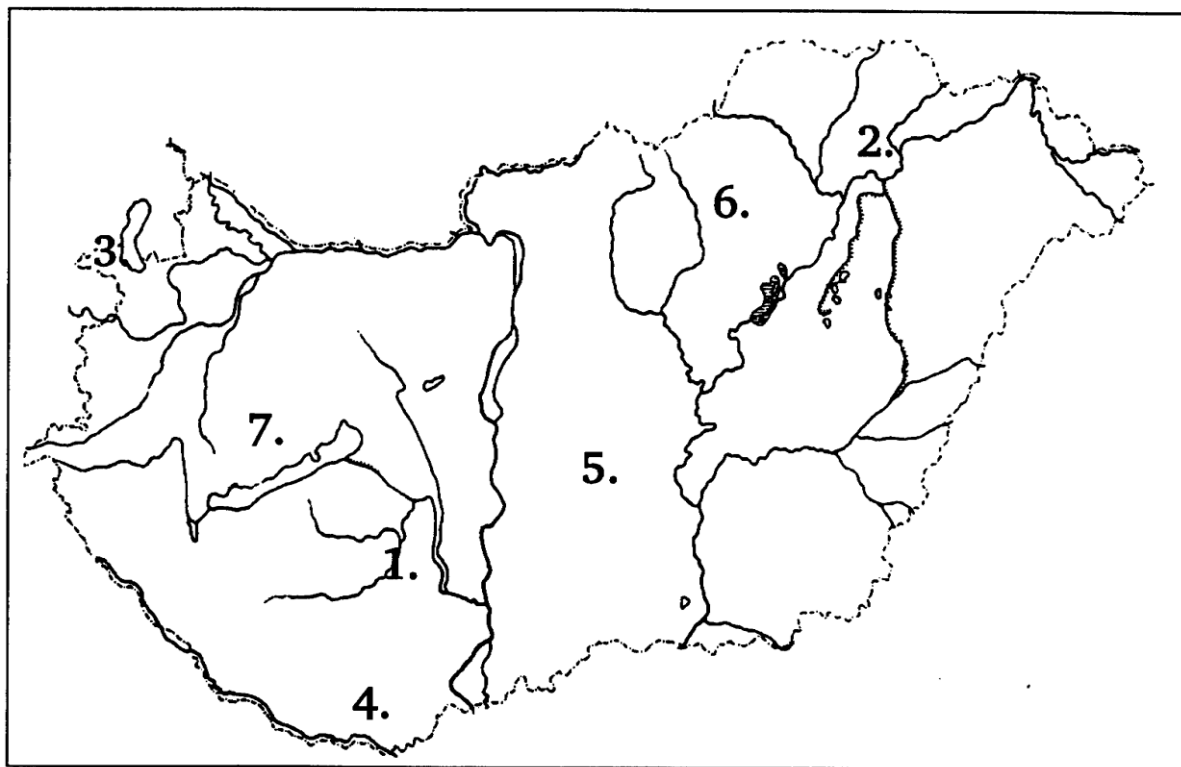
.....

3. Hazánk borvidékei

(8 pont)

Nevezze meg a térképvázlaton jelölt borvidékeket!

(7 pont)



- | | |
|---------|---------|
| 1. | 2. |
| 3. | 4. |
| 5. | 6. |
| 7. | |

A térképvázlaton jelölt borvidékek közül egy különbözik a többitől.

8. Melyik borvidék ez? Válaszát indokolja!

(1 pont)

.....

MEGOLDÁSOK

6. FELADATSOR

I. rész

- 1. feladat** (8 pont)
- a) 1. Ural-hegység
2. Nagy-Vízválasztó-hegység
3. Appalache-hegység
4. Skandináv-hegység
5. Atlasz-hegység 5 pont
- b) 1.: 4., 3. (csak a teljes, helyes válaszokért adható a pont) 1 pont
2.: 1., 2., 3. (csak a teljes, helyes válaszokért adható a pont) 1 pont
3. 5. 1 pont
- 2. feladat** (9 pont)
- a) 1. Thaiföld
2. Manila
3. Tajvan
4. Kanton
5. Malajzia
6. Jakarta 6 pont
- b) 4. 1 pont
- c) Eurázsiai-lemez, Fülöp-lemez (Pacifikus-lemez, Indoausztrál-lemez) 2 pont
- 3. feladat** (8 pont)
1. szekszárdi
2. tokaj-hegyaljai
3. soproni
4. villányi
5. kiskunsági/alföldi
6. bükkaljai/egri
7. Balaton-felvidéki 7 pont
8. 5. számú, nem történelmi borvidék/homokos területen található 1 pont

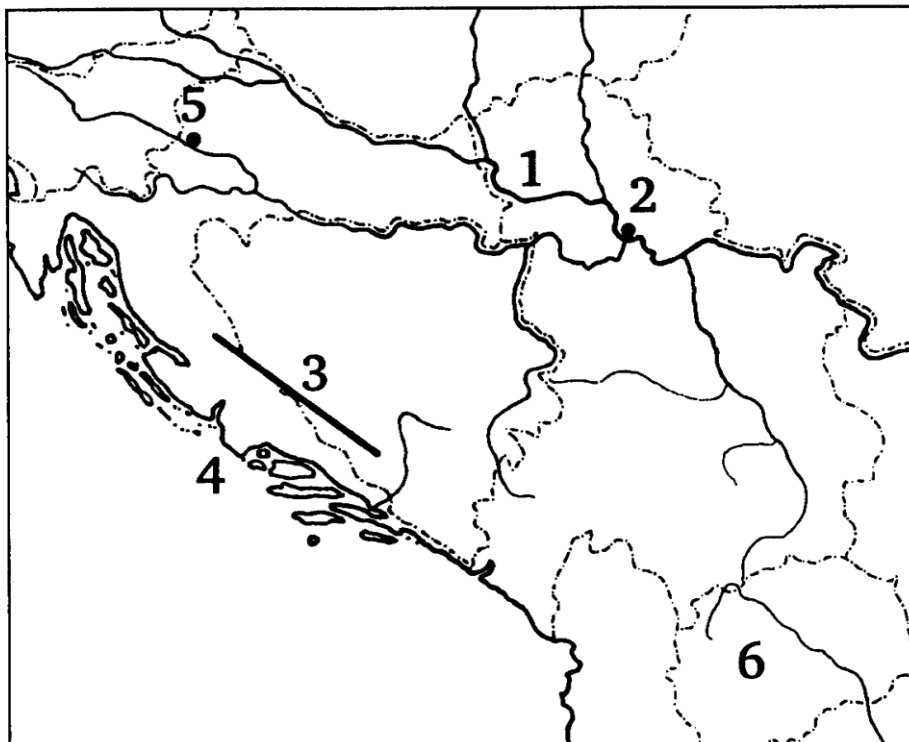
7. FELADATSOR

I. rész

A feladatlap-rész megoldásához atlasz nem használható!

1. Oldja meg a feladatokat a térképvázlat alapján!

(9 pont)



a) Nevezze meg a térképen számokkal jelölt részeket!

1. folyó
2. város
3. hegység
4. tenger
5. város
6. ország

(6 pont)

b) Válaszoljon a következő kérdésekre!

1. Nevezze meg az **1. számmal** jelölt folyó torkolattípusát!

(1 pont)

.....

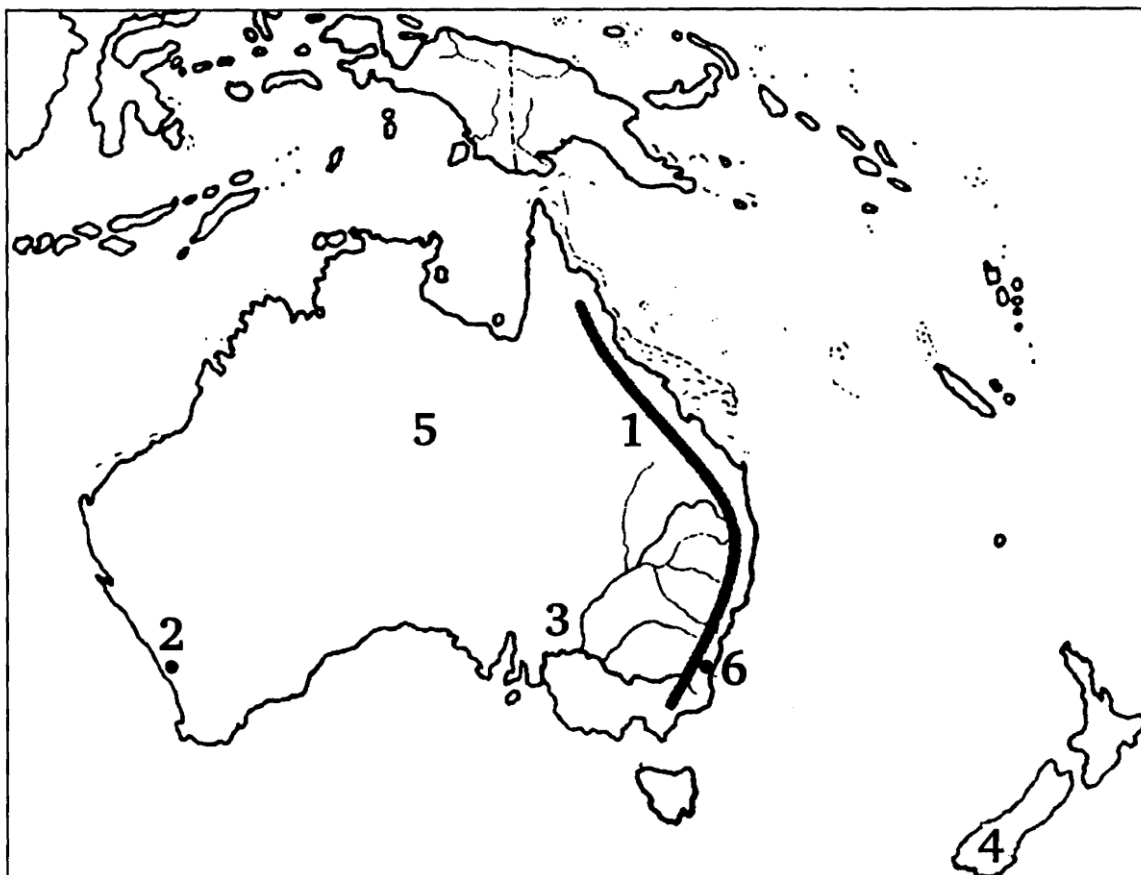
2. Milyen eredetű kőzet alkotja a **3. számmal** jelölt hegység fő tömegét és melyik hegységrendszernek a tagja?

(2 pont)

.....

2. Oldja meg a feladatokat a térképészlet alapján!

(8 pont)



a) Nevezze meg a térképen számokkal jelölt részeket!

- 1. -hegység
- 2. város
- 3. folyó
- 4. sziget (ország)
- 5. ösföld
- 6. város

(6 pont)

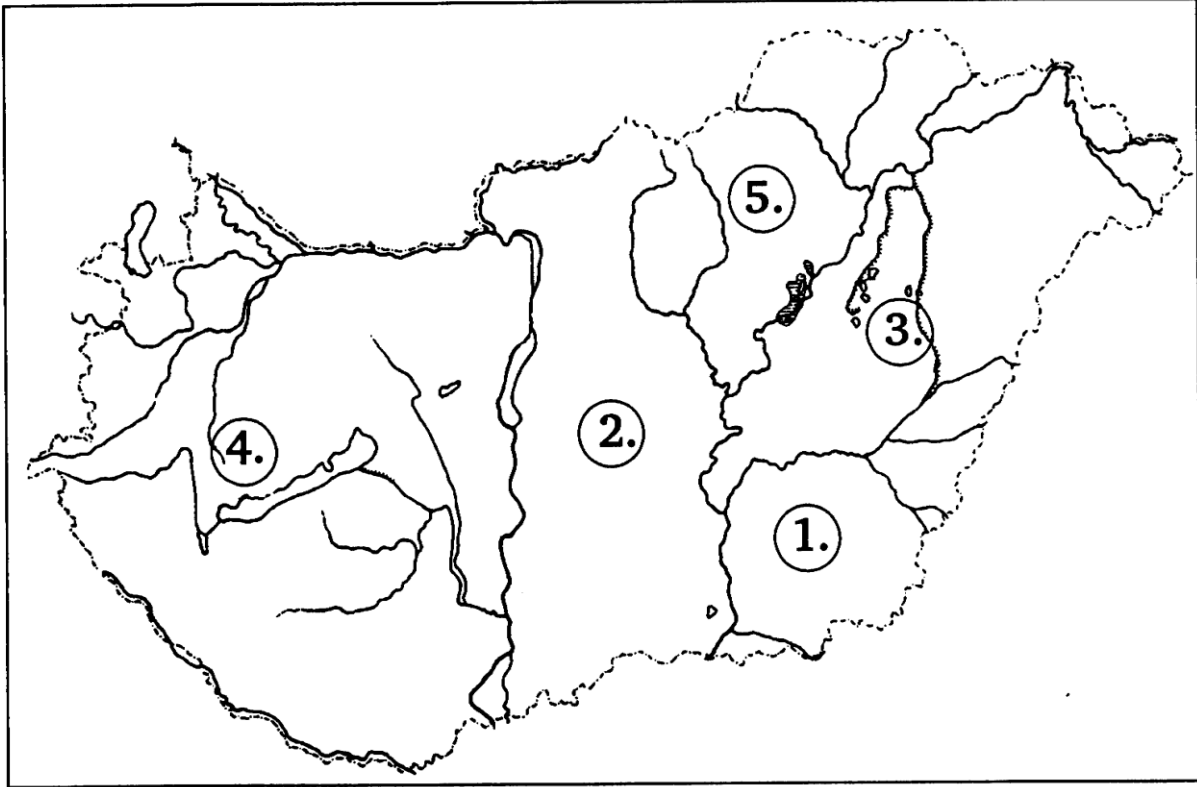
b) Válaszoljon a térkép számaival a következő kérdésekre!

- 1. Fővárosa Wellington.
- 2. A földtörténeti óidőben keletkezett.

(2 pont)

3. Oldja meg a feladatokat a térképvázlat alapján!

(8 pont)



a) Nevezze meg a térképvázlaton jelölt nemzeti parkokat!

1.
2.
3.
4.
5.

(5 pont)

b) Válaszoljon a térkép számaival a következő kérdésekre!

1. Területén hazánk legnagyobb kiterjedésű szikes talaja alakult ki.
2. Jó minőségű feketeföld jellemző a területre.
3. Felszín alatti és felszíni karsztformák szépítik területét.

(3 pont)

7. FELADATSOR

I. rész

- | | | |
|-------------------|--|------------------|
| 1. feladat | | (9 pont) |
| a) | 1. Duna | |
| | 2. Belgrád | |
| | 3. Dinári-hegység | |
| | 4. Adriai-tenger | |
| | 5. Zágráb | |
| | 6. Macedónia | 6 pont |
| b) | | |
| | 1. delta torkolat | 1 pont |
| | 2. üledékes eredetű
Eurázsiai-hegységrendszer | 1 pont
1 pont |
| 2. feladat | | |
| a) | 1. Nagy-Vízválasztó-hegység | |
| | 2. Perth | |
| | 3. Murray-folyó | |
| | 4. Új-Zéland | |
| | 5. ausztráliai | |
| | 6. Canberra | 6 pont |
| b) | 1. 4. | 1 pont |
| | 2. 1. | 1 pont |
| 3. feladat | | (8 pont) |
| a) | 1. Körös-Maros Nemzeti Park | |
| | 2. Kiskunsági Nemzeti Park | |
| | 3. Hortobágyi Nemzeti Park | |
| | 4. Balaton-felvidéki Nemzeti Park | |
| | 5. Bükk Nemzeti Park | 5 pont |
| b) | 1. 3. | |
| | 2. 1. | |
| | 3. 5. | 3 pont |

8. FELADATSOR

I. rész

A feladatlap-rész megoldásához atlasz nem használható!

1. Válaszoljon az alábbi kérdésekre!

(9 pont)

a) Egészítse ki a táblázatban szereplő országokat fővárosaival vagy a fővárosokhoz adja meg az országokat! (7 pont)

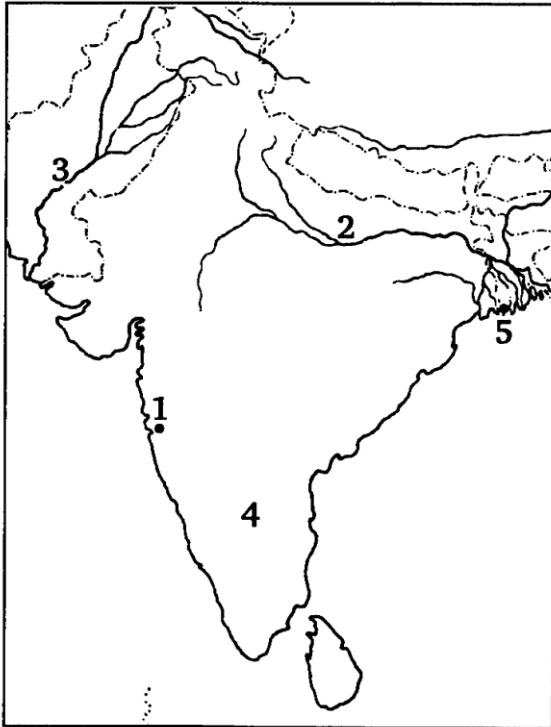
ország	főváros
Irak	
	Ottawa
Belgium	
Argentína	
	Athén
Szaúd-Arábia	
	Tokió

b) Nevezze meg a táblázatból azt a két fővárost, melyek az Európai Unió tagállamaihoz tartoznak! (2 pont)

.....
.....

2. Oldja meg a feladatokat a térképvázlat alapján! (7 pont)

a) Nevezze meg a térképen számokkal jelölt részeket! (5 pont)



- 1. város
- 2. folyó
- 3. folyó
- 4. fennsík
- 5. város

b) Válaszoljon a kérdésekre!

1. Milyen nagy szerkezeti egység a 4. számmal jelölt földrajzi terület? (1 pont)

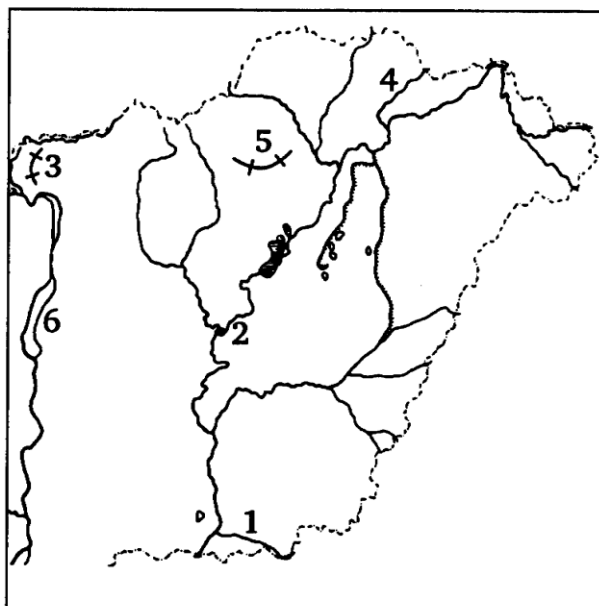
.....

2. Melyik földtörténeti korban alakult ki? (1 pont)

.....

3. Oldja meg a feladatokat a térképészlet alapján! (9 pont)

a) Nevezze meg a térképen számokkal jelölt részeket! (6 pont)



1. folyó

2. város

3. hegység

4. folyó

5. hegység

6. -sziget

b) Válaszoljon a térkép számaival a következő kérdésekre! (3 pont)

1. Vulkanikus eredetű kőzetből épül fel.

2. Alapanyagot biztosít cementgyárak számára.

3. A Keleti-Kárpátokban ered.

MEGOLDÁSOK

8. FELADATSOR

I. rész

1. feladat

(9 pont)

a)

7 pont

ország	főváros
Irak	<i>Bagdad</i>
<i>Kanada</i>	Ottawa
Belgium	<i>Brüsszel</i>
Argentína	<i>Buenos Aires</i>
<i>Görögország</i>	Athén
Szaúd-Arábia	<i>Rijad</i>
<i>Japán</i>	Tokió

b) Brüsszel és Athén

2 pont

2. feladat

(7 pont)

a) 1. Bombay

2. Gangesz

3. Indus

4. Dekkán-fennsík

5. Calcutta

5 pont

b) 1. ősmasszívum/ősföld

1 pont

2. ősidő

1 pont

3. feladat

(9 pont)

a) 1. Maros

2. Szolnok

3. Börzsöny

4. Bodrog

5. Bükk

6. Csepel-sziget

6 pont

b) 1. 3.

1 pont

2. 5.

1 pont

3. 1.

1 pont

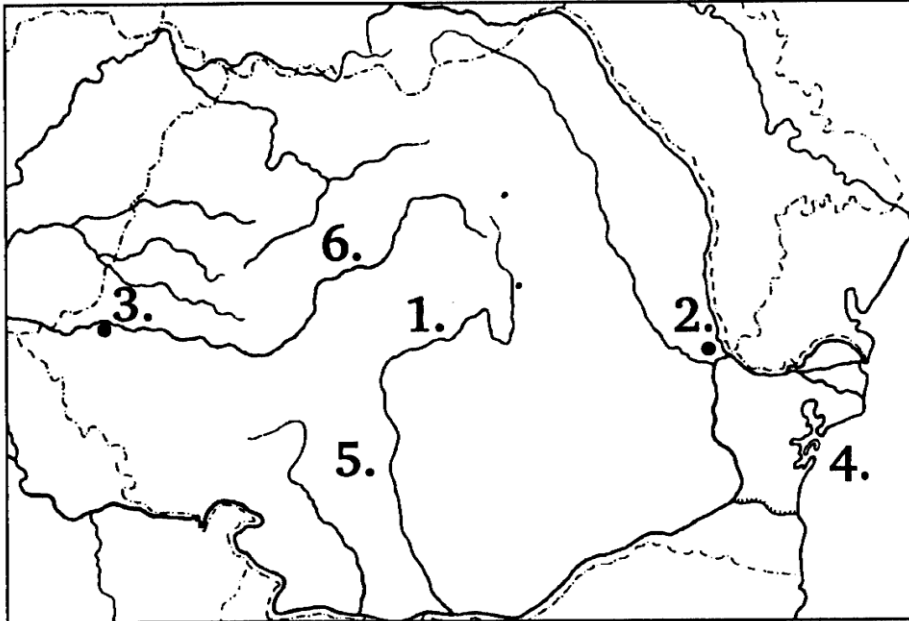
9. FELADATSOR

I. rész

A feladatlap-rész megoldásához atlasz nem használható!

1. Oldja meg a feladatokat a térképvázlat alapján!

(8 pont)



a) Nevezze meg a térképen számokkal jelölt részeket!

(6 pont)

1. folyó
2. város
3. város
4. -tenger
5. -alföld
6. folyó

b) Válaszoljon a térkép számaival a következő kérdésekre!

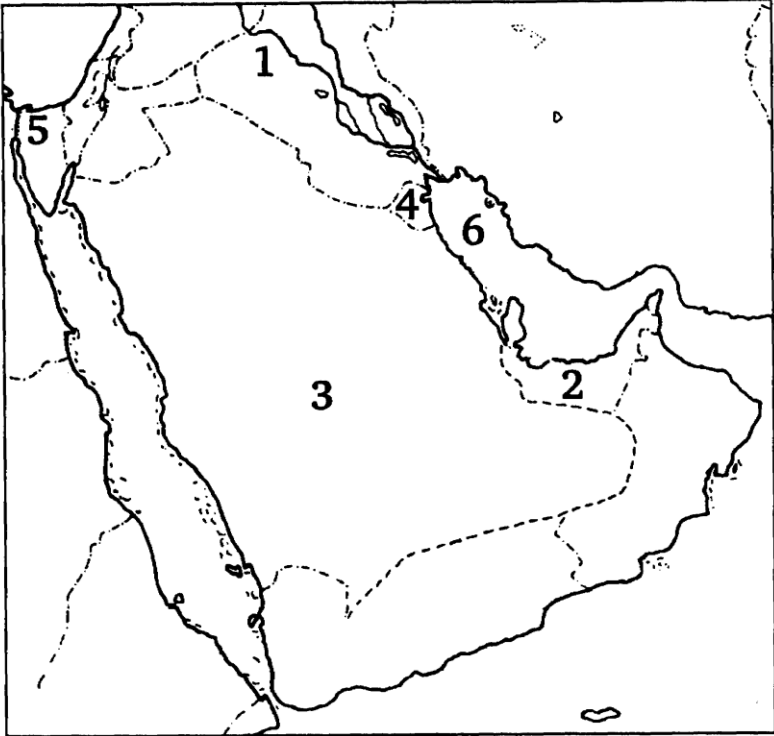
(2 pont)

1. Papír-, fa- és cellulózgyártása jelentős.

2. A Duna mellékfolyó Romániában.

2. Oldja meg a feladatokat a térképvázlat alapján!

(9 pont)



a) Nevezze meg a térképen számokkal jelölt részeket!

- 1. -folyó
- 2. -ország
- 3. -ősföld
- 4. ország
- 5. -csatorna
- 6. -öböl

(6 pont)

b) Válaszoljon a kérdésekre!

- 1. Az 5. számú csatorna milyen tengerek között biztosít átjárást? (2 pont)
.....
- 2. A 4. számú ország milyen jelentős mennyiségű ásványkincssel rendelkezik? (1 pont)
.....

3. Magyarország települései**(8 pont)**

Melyik hazai városra ismer az alábbi leírásokból? Nevezze meg a városokat!

a) Villamosenergiatermelésünk több mint egyharmadát biztosítja az atomerőművével.
.....

b) Háztartási gépeket (porszívó, hűtőszekrény, fagyasztóláda) gyártanak.
.....

c) Fűszerpaprika-termelő és feldolgozó település a Duna mentén.
.....

d) Kesztyűgyártásáról és Zsolnay porcelánjairól híres megyeszékhely.
.....

e) A timföldgyártás, ólomkristálygyártás központja a Dunántúli-középhegységben.
.....

f) Egyházi központ, történelmi műemlékekben gazdag, Heves megye székhelye.
.....

g) A legnagyobb észak-keleti határátkelőhely az ukrán határnál.
.....

h) Hazánk legjelentősebb kőolaj-feldolgozó központja.
.....

MEGOLDÁSOK

9. FELADATSOR

I. rész

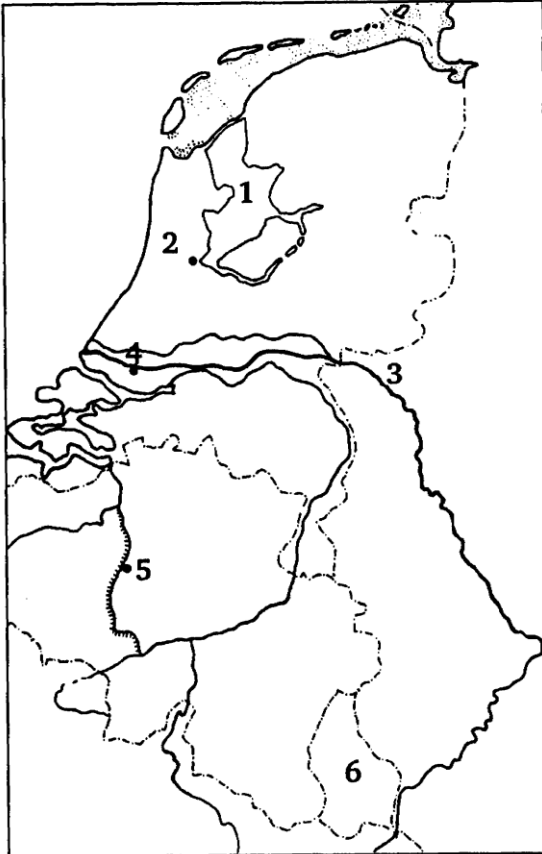
- 1. feladat** (8 pont)
- a) 1. Olt
2. Galati
3. Arad
4. Fekete-tenger
5. Román-alföld
6. Maros 6 pont
- b) 1. 2. 1 pont
2. 1. 1 pont
- 2. feladat** (9 pont)
- a) 1. Eufrátesz
2. Egyesült Arab Emirátus
3. Arab-ósföld
4. Kuvait
5. Szuezi-csatorna
6. Perzsa (Arab)-öböl 6 pont
- b) 1. Vörös-tenger és Földközi-tenger 2 pont
2. kőolaj 1 pont
- 3. feladat**
- a) Paks
b) Jászberény
c) Kalocsa
d) Pécs
e) Ajka
f) Eger
g) Záhony
h) Százhalombatta 8 pont

10. FELADATSOR

I. rész

A feladatlap-rész megoldásához atlasz nem használható!

1. Oldja meg a feladatokat a térképvázlat alapján! (8 pont)



a) Nevezze meg a térképen a számokkal jelölt részeket! (6 pont)

1.-tó

2. város

3. folyó

4. város

5. város

6. ország

b) Válaszoljon a kérdésekre!

1. A térképvázlatban jelölt tó környékén milyen szerkezeti egység alakult ki? (1 pont)

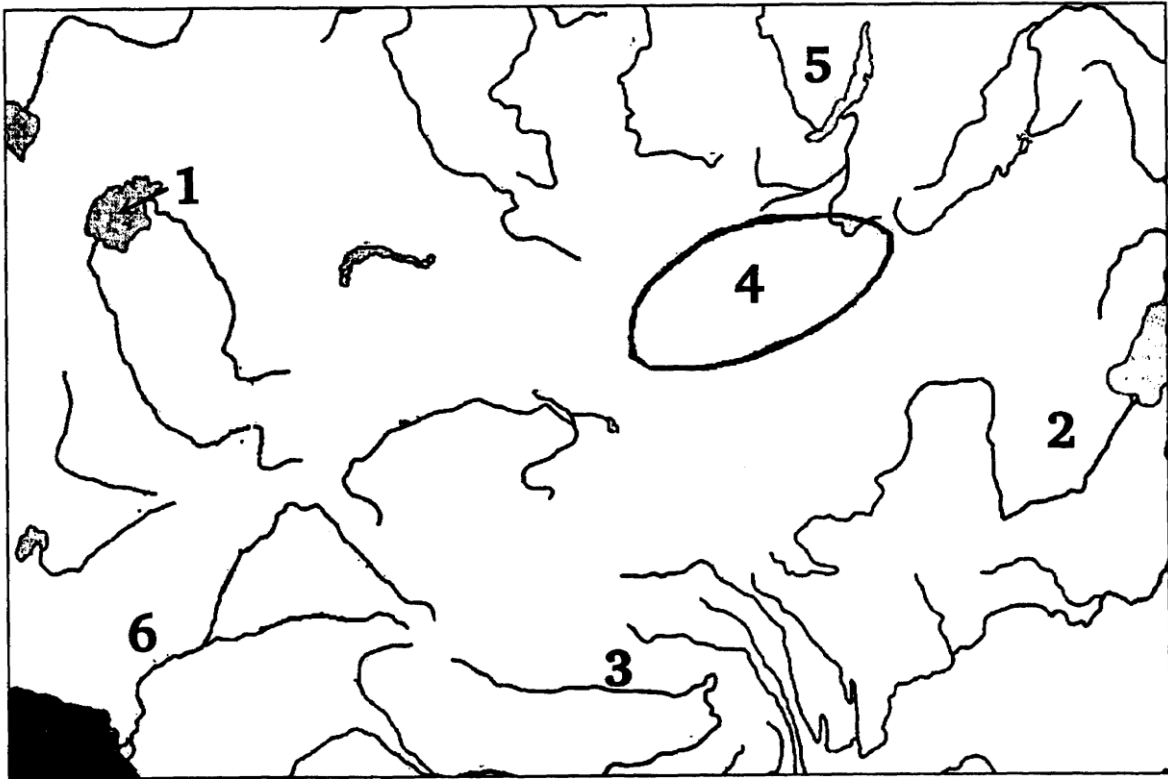
.....

2. Nevezze meg a 6. számmal jelölt ország fővárosát! (1 pont)

.....

2. Oldja meg a feladatokat a térképvázlat alapján!

(9 pont)



a) Nevezze meg a térképen számokkal jelölt részeket!

(6 pont)

1. -tó
2. folyó
3. folyó
4. sivatag
5. -tó
6. folyó

b) Válaszoljon a térkép számaival a következő kérdésekre!

(3 pont)

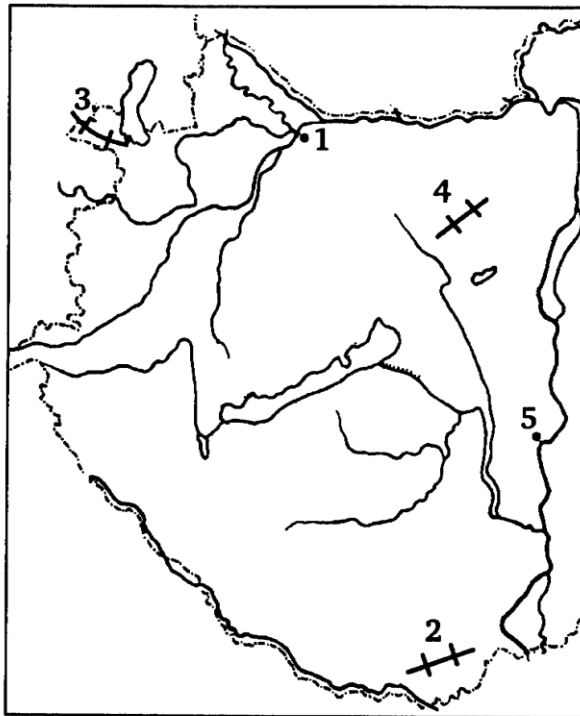
1. Árkos vetődéssel keletkezett tó.
2. Kína mezőgazdaságának öntözésében jelentős.
3. Kialakulásában a főn szél fontos szerepet játszott.

3. Oldja meg a feladatokat a térképészlet alapján!

(8 pont)

a) Nevezze meg a térképen számokkal jelölt részeket!

(5 pont)



- 1.....város
- 2.....-hegység
- 3.....-hegység
- 4.....-hegység
- 5.....város

b) Válaszoljon a térkép számaival a következő kérdésekre!

(3 pont)

- 1. Hazánk legjelentősebb vaskohászati központja.
- 2. Területén mediterrán hatás érvényesül.
- 3. A földtörténet során barnakőszén képződött területén.

MEGOLDÁSOK

10. feladatsor

I. rész

- 1. feladat** (8 pont)
- a) 1. Ijsell-tó
2. Amszterdam
3. Rajna
4. Rotterdam
5. Brüsszel
6. Luxemburg 6 pont
- b) 1. mélyföld 1 pont
2. Luxembourg 1 pont
- 2. feladat** (9 pont)
- a) 1. Aral-tó
2. Sárga-folyó
3. Brahmaputra
4. Góbi-sivatag
5. Bajkál-tó
6. Indus folyó 6 pont
- b) 1. 5. 1 pont
2. 2. 1 pont
3. 4. 1 pont
- 3. feladat** (8 pont)
- a) 1. Győr
2. Villányi-hegység
3. Soproni-hegység
4. Vértes-hegység
5. Dunaújváros 5 pont
- b) 1. 5. 1 pont
2. 2. 1 pont
3. 4. 1 pont

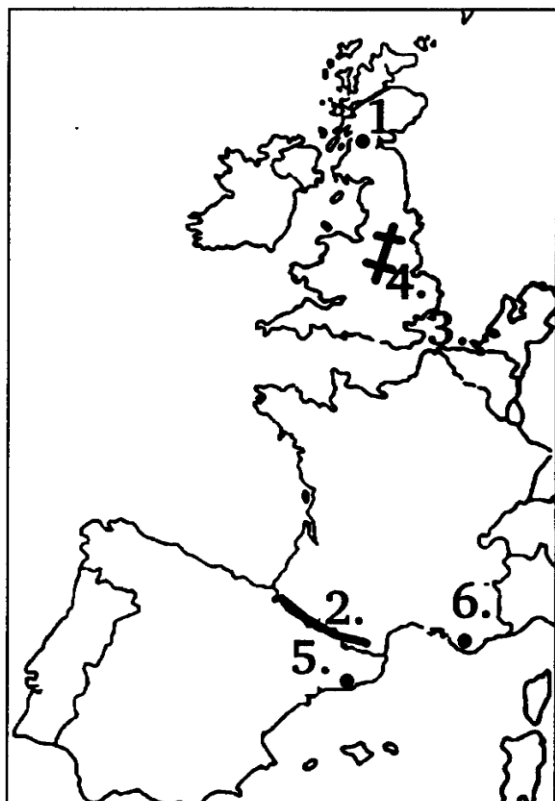
11. FELADATSOR

I. rész

A feladatlap-rész megoldásához atlasz nem használható!

1. Oldja meg a feladatokat a térképészlet alapján!

(9 pont)



a) Nevezze meg a térképen számokkal jelölt részeket! (6 pont)

1. város

2. hegység

3. -csatorna

4. hegység

5. város

6. város

b) Válaszoljon a térkép számaival a következő kérdésekre!

(3 pont)

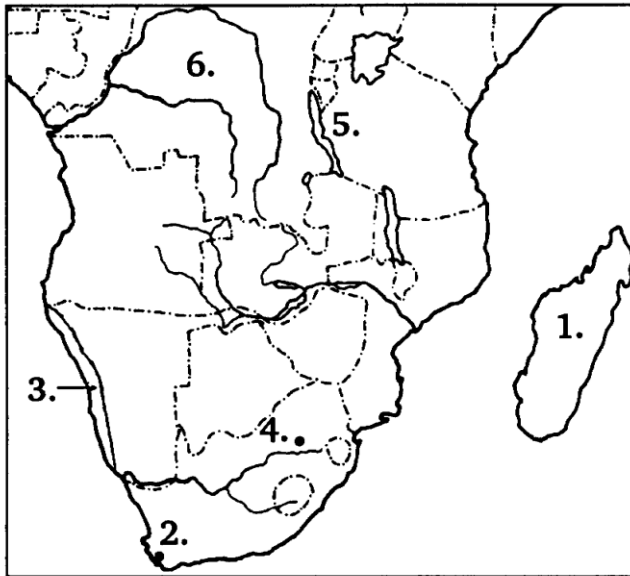
1. Az Eurázsiai-hegységrendszer tagja.

2. A földtörténeti óidőben keletkezett.

3. Import kőolaj feldolgozása jellemző.

2. Oldja meg a feladatokat a térképvázlat alapján! (8 pont)

a) Nevezze meg a térképen számokkal jelölt részeket! (6 pont)



- 1. sziget
- 2. város
- 3. sivatag
- 4. város
- 5.-tó
- 6. medence

b) Válaszoljon a kérdésre!

1. Milyen éghajlat jellemző a 6. számmal jelölt medence területére? (1 pont)

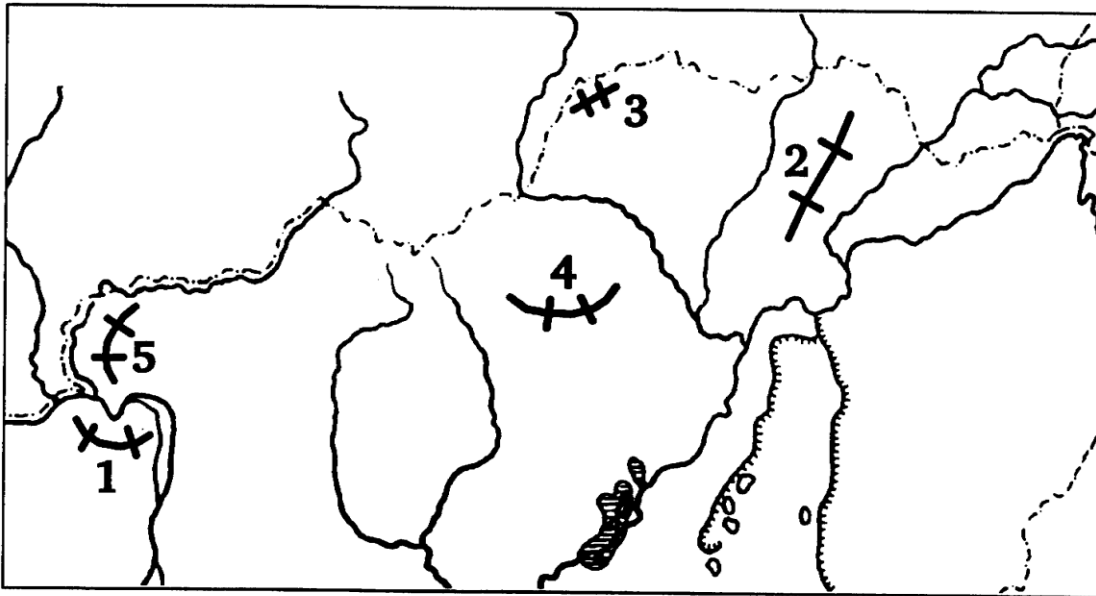
.....

2. Hogyan keletkezett az 5. számmal jelölt tó? (1 pont)

.....

3. Oldja meg a feladatokat a térképészlet alapján!

(8 pont)



a) Nevezze meg a számokkal jelölt hegységeket!

(5 pont)

1.
2.
3.
4.
5.

b) Csoportosítsa a hegységeket a fő felépítő kőzetek alapján és írja a táblázatba! Egészítse ki a táblázat üresen hagyott részeit!

(3 pont)

kőzet típusa	üledékes	
Hegység száma		

(Csak a teljes válaszáért jár a pont!)

MEGOLDÁSOK

11. FELADATSOR

I. rész

1. feladat (9 pont)

- a) 1. Glasgow
2. Pireneusok hegység
3. La Manche-csatorna
4. Pennine-hegység
5. Barcelona
6. Marseille
- b) 1. 2. 6 pont
2. 4. 1 pont
3. 6. 1 pont

2. feladat (8 pont)

- a) 1. Madagaszkár-sziget
2. Fokváros/Cape Town
3. Namíb-sivatag
4. Johannesburg
5. Tanganyika-tó
6. Kongó-medence
- b) 1. egyenlítői éghajlat 6 pont
2. árkos vetődéssel/tektonikai árok 1 pont

3. feladat (8 pont)

- a) 1. Visegrádi-hegység
2. Zempléni-hegység
3. Aggteleki-karszt
4. Bükk
5. Börzsöny

- b) 5 pont

kőzet típusa	üledékes	vulkanikus
hegységek száma	3., 4.	1., 2., 5.

Csak a teljes válaszokért jár a pont!

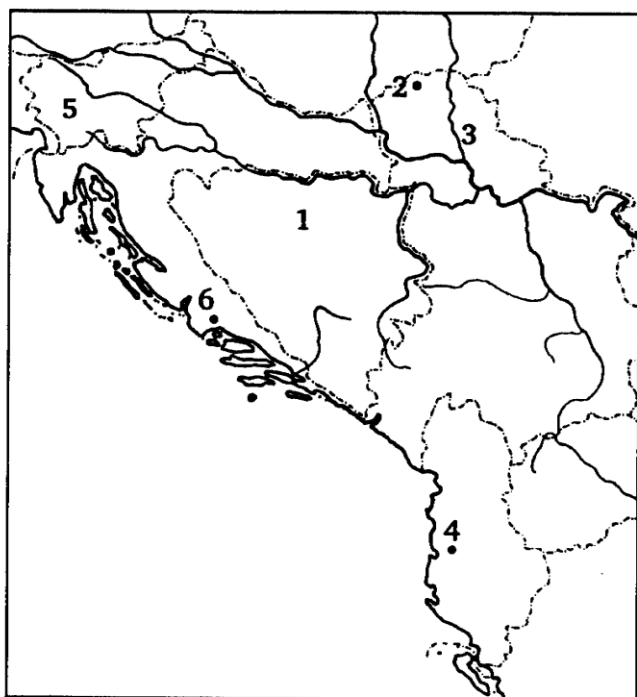
12. FELADATSOR

I. rész

A feladatlap-rész megoldásához atlasz nem használható!

1. Oldja meg a feladatokat a térképvázlat alapján! (9 pont)

a) Nevezze meg a térképen számokkal jelölt részeket! (6 pont)



1. ország

2. város

3. folyó

4. város

5. ország

6. város

b) Válasszon a térkép számaival a következő kérdésre! (3 pont)

1. Az Európai Unió tagállama.

2. Fővárosa Szarajevó.

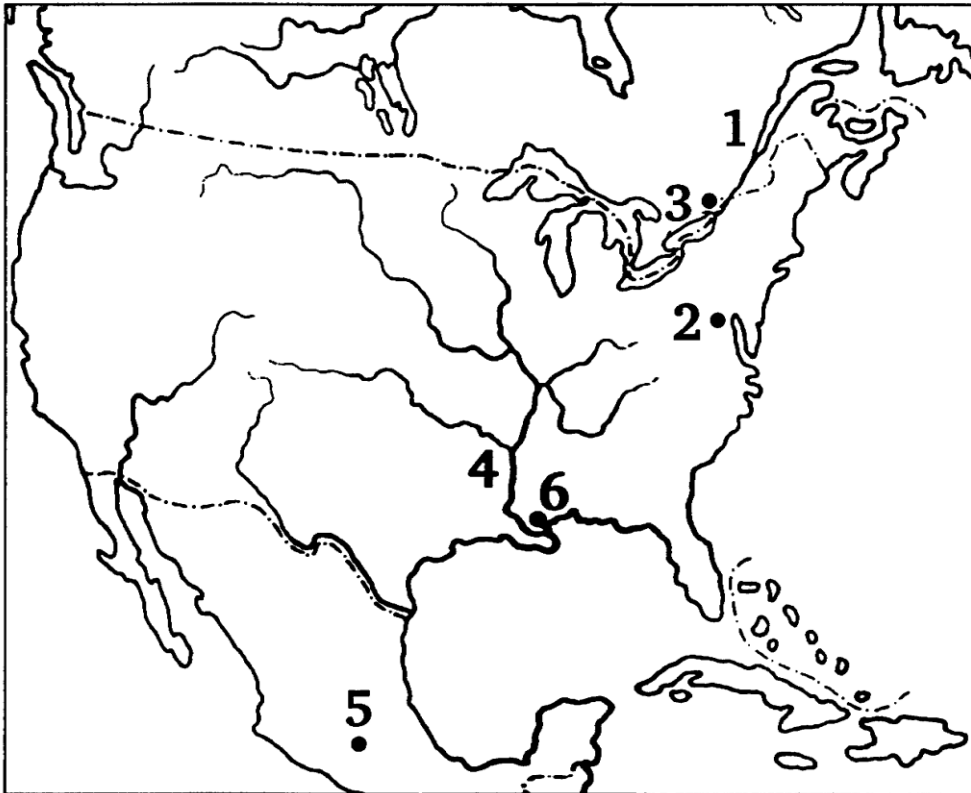
3. Kikötőipar, idegenforgalom és turizmus jellemzi.

2. Oldja meg a feladatokat a térképészlet alapján!

(8 pont)

a) Nevezze meg a térképen számokkal jelölt részeket!

(6 pont)



- 1. folyó
- 2. város
- 3. város
- 4. folyó
- 5. város
- 6. város

b) Válaszoljon a térkép **számaival** a következő kérdésekre!

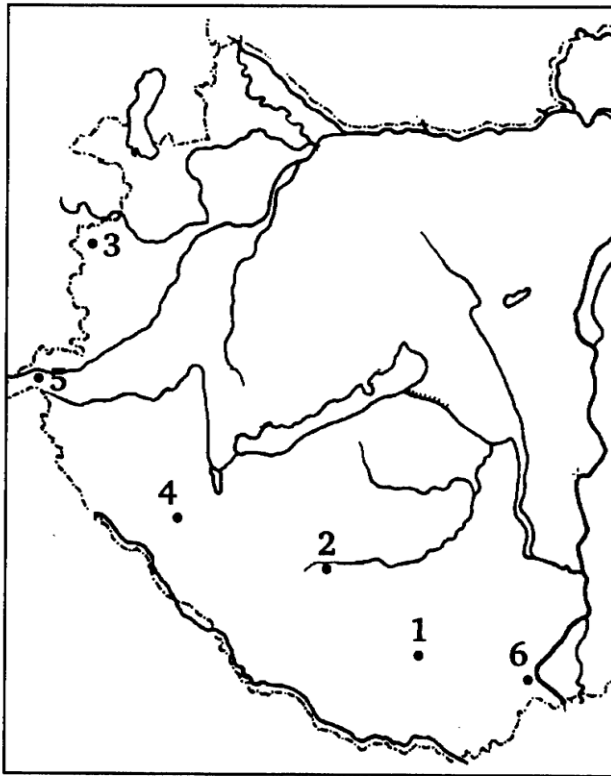
- 1. Mely számok jelölnek **fővárosokat**? (1 pont)
- 2. Nevezze meg a **4. számmal** jelölt folyó torkolattípusát! (1 pont)

.....

3. Oldja meg a feladatokat a térképvázlat alapján!

(8 pont)

a) Nevezze meg a térképvázlaton számokkal jelölt városokat! (6 pont)



- 1.
- 2.
- 3.
- 4.
- 5.
- 6.

b) Válaszoljon a térkép számaival a következő kérdésekre!

(2 pont)

- 1. Gyógyvizére települt a gyógyturizmus.
- 2. Történelmi emlékhely, farostlemez-előállítás és bútoripar jellemzi.

MEGOLDÁSOK

12. FELADATSOR

I. rész

1. feladat

(9 pont)

a) 1. Bosznia-Hercegovina

2. Szabadka

3. Tisza

4. Tirana

5. Szlovénia

6. Split

6 pont

b) 1. 5.

1 pont

2. 1.

1 pont

3. 6.

1 pont

2. feladat

(8 pont)

a) 1. Szent-Lőrinc

2. Washington

3. Ottawa

4. Mississippi

5. Mexikóváros

6. New Orleans

6 pont

b) 1. 2., 3., 5.

1 pont

2. deltatorokolat

1 pont

3. feladat

(8 pont)

a) 1. Pécs

2. Kaposvár

3. Kőszeg

4. Zalakaros

5. Szentgotthárd

6. Mohács

6 pont

b) 1. 4.

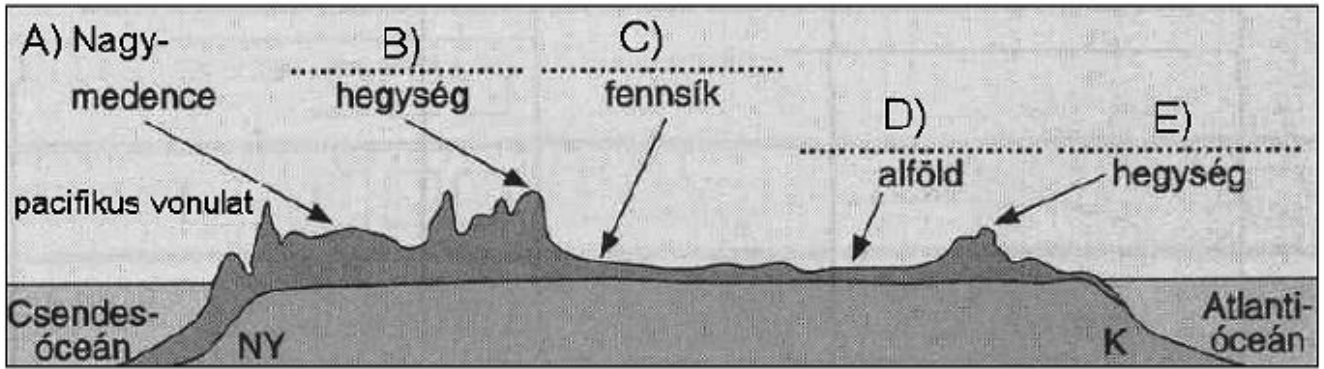
1 pont

2. 6.

1 pont

13. FELADATSOR

1. Figyelje meg a keresztmetszetet és válaszoljon a kérdésekre!



a) Nevezze meg a keresztmetszeten ábrázolt, betűvel jelölt tájakat!

- A) Nagy-medence
- B).....
- C).....
- D).....
- E).....

4 pont	
--------	--

b) Írja az állítások elé a megfelelő táj betűjelét!

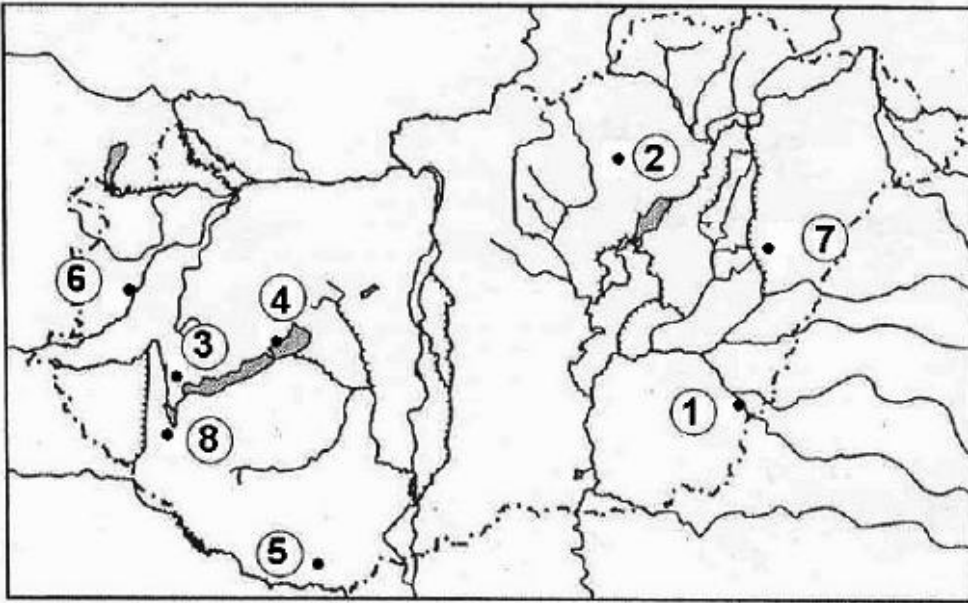
-1. Óidei rögei a harmadidőszakban megemelkedtek.
-2. A legeltető állattenyésztés fő területe.
-3. Üledéktakarója kőolajban gazdag.
-4. Lösszel fedett táblás vidék.
-5. Ásványkincsekben gazdag, erősen lekopott röghegység.
-6. Az ábrázolt tájak közül a legszárazabb.

6 pont	
--------	--

10 pont	
---------	--

2. A térképvázlat alapján oldja meg a feladatokat!

a) Nevezze meg a térképvázlaton bejelölt településeket!



- 1.
- 2.
- 3.
- 4.
- 5.
- 6.
- 7.
- 8.

8 pont

b) Mi a települések közös szerepköre?

1 pont

c) Mi a szerepkörük geológiai alapja?.....

.....

Melyik felszín alatti víztípus kialakulásában játszik ez szerepet?

2 pont

11 pont

MEGOLDÁS 13.FELADATSOR

1. FELADAT

a)

- B) Sziklás-hg.
- C) Préri
- D) Mississippi-alföld
- E) Appalache-hg.

1 pont

1 pont

1 pont

1 pont

4 pont

b)

- 1. B
- 2. C
- 3. D
- 4. C
- 5. E
- 6. A

1 pont

1 pont

1 pont

1 pont

1 pont

1 pont

6 pont

Összes elérhető pontszám: 10 pont
--

2. FELADAT

a)

- 1. Gyula
- 2. Eger
- 3. Hévíz
- 4. Balatonfüred
- 5. Harkány
- 6. Sárvár
- 7. Hajdúszoboszló
- 8. Zalakaros

1 pont

1 pont

1 pont

1 pont

1 pont

1 pont

1 pont

1 pont

8 pont

b)

gyógyfürdők (gyógy-idegenforgalmi központok)

1 pont

1 pont

c)

a geotermikus gradiens magas értéke, vagy a vékony földkéreg
a hévíz

1 pont

1 pont

2 pont

Összes elérhető pontszám: 11 pont
--

14. FELADATSOR

1. rész

A feladatlap-rész megoldásához atlasz nem használható!

1. Válaszoljon a folyók torkolatával kapcsolatos kérdésekre!

a) Mely tengerbe, vagy öbölbe torkollanak az alábbi folyók? Írja a megfelelő tenger vagy öböl nevét a folyó utáni vonalra!

1. Nílus:-tenger

2. Visztula:-tenger

3. Tigris:-öböl

4. Pó:-tenger

5. Rajna:-tenger

5 pont

b) Hazánk egyik fő folyója, a Tisza nem tengerbe torkollik. Válaszoljon a kérdésekre!

1. Mely folyóba ömlik?

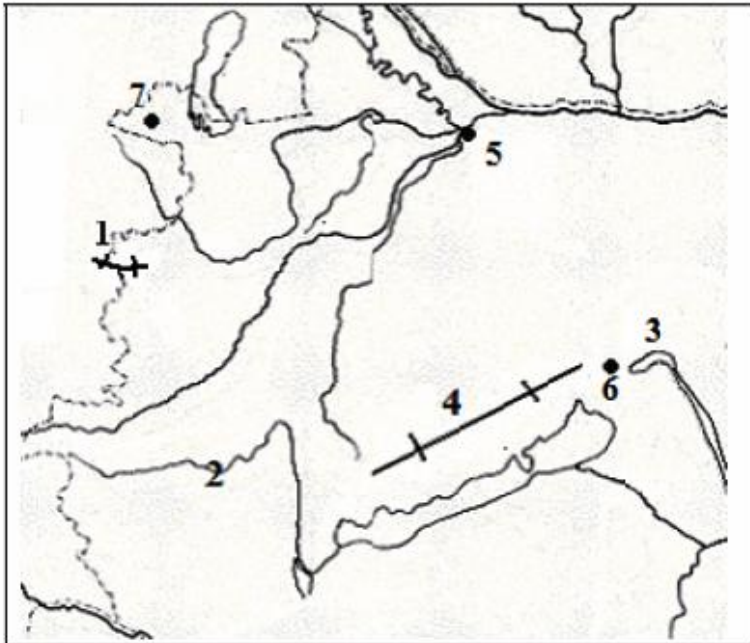
2. Melyik ország, vagy országrész területén található a torkolat?

2 pont

7 pont

2. Oldja meg a feladatokat a térképvázlat alapján!

a) Nevezze meg, hogy mely földrajzi helyeket jelölik a térképvázlatba írt számok!



1.-hegység
2. (folyó)
3.-tó
4. (hegység)
5. (város)
6. (város)
7. (város)

7 pont

b) Válaszoljon a következő kérdésre a térképvázlat megfelelő számának beírásával!

A Nyugat-Dunántúl régió központja, személygépkocsi-gyártása jelentős.

1 pont

c) Nevezze meg a 4-es számmal jelölt hegység fő felépítő kőzetét!

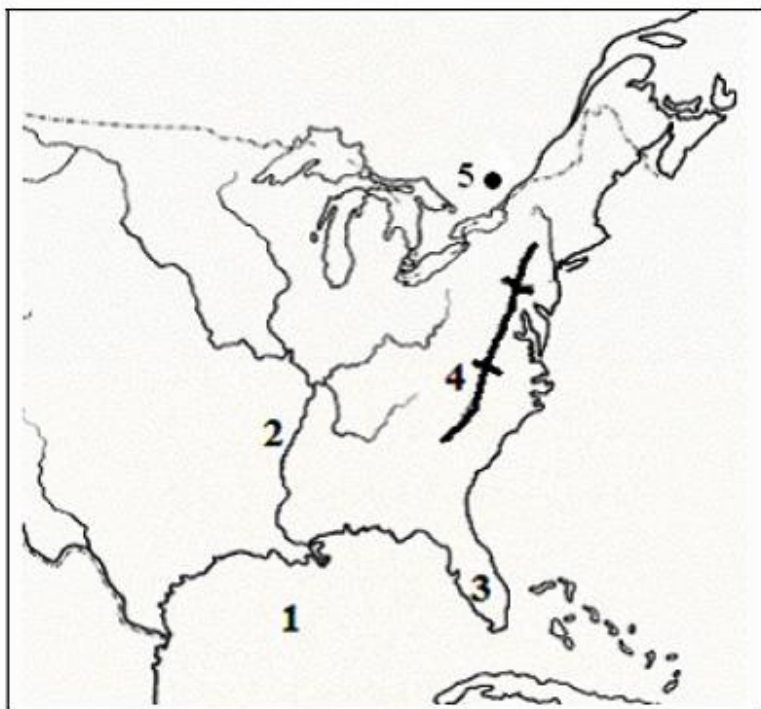
.....

1 pont

9 pont

3. Oldja meg a feladatokat a térképészvázlat alapján!

a) Nevezze meg a számokkal jelölt földrajzi fogalmakat!



1.-öböl
2. (folyó)
3.-félsziget
4. (hegység)
5. (főváros)

5 pont

b) Mely földtörténeti időben keletkezett a 4-es számmal jelölt hegység?

.....

Nevezze meg a hegység legfontosabb ásványkincsét!

.....

2 pont

c) Melyik külső erő játszott szerepet a Nagy-tavak medencéjének kialakításában?

.....

1 pont

d) Mi a neve az Eire- és az Ontario-tó között kialakult világhírű természeti képződménynek?

.....

1 pont

9 pont

MEGOLDÁS

14. FELADATSOR

1. rész

1. FELADAT

a)

- | | |
|-----------------------|--------|
| 1. Földközi-tenger | 1 pont |
| 2. Balti-tenger | 1 pont |
| 3. Perzsa (Arab)-öböl | 1 pont |
| 4. Adriai-tenger | 1 pont |
| 5. Északi-tenger | 1 pont |

5 pont

b)

- | | |
|---------------------------------------|--------|
| 1. Duna | 1 pont |
| 2. Szerbia és Montenegró vagy Szerbia | 1 pont |
- Megjegyzés: Mivel több atlaszban még Jugoszlávia szerepel, kivételesen ez is elfogadható.*

2 pont

Összes elérhető pontszám: 7 pont

2. FELADAT

a)

- | | |
|------------------------------------|--------|
| 1. Kőszegi-hegység | 1 pont |
| 2. Zala | 1 pont |
| 3. Velencei-tó | 1 pont |
| 4. Bakony | 1 pont |
| 5. Győr | 1 pont |
| 6. Székesfehérvár (vagy Várpalota) | 1 pont |
| 7. Sopron | 1 pont |

7 pont

b)

- szám: 5
- | |
|--------|
| 1 pont |
|--------|

1 pont

c)

- mészkö
- | |
|--------|
| 1 pont |
|--------|

1 pont

Összes elérhető pontszám: 9 pont

3. FELADAT

a)

- | | |
|-----------------------|--------|
| 1. Mexikói-öböl | 1 pont |
| 2. Mississippi | 1 pont |
| 3. Floridai-félsziget | 1 pont |
| 4. Appalache | 1 pont |
| 5. Ottawa | 1 pont |

5 pont

b)

- | | |
|--------------|--------|
| óidő | 1 pont |
| feketeköszén | 1 pont |

2 pont

c)

- | | |
|--|--------|
| belföldi jég (jég/jégkorszaki/jégkori jégtakaró) | 1 pont |
|--|--------|

1 pont

d)

- | | |
|-----------------|--------|
| Niagara-vízesés | 1 pont |
|-----------------|--------|

1 pont

Összes elérhető pontszám: 9 pont

15. FELADATSOR

1. Oldja meg a feladatokat a térképvázlat alapján!

a) Nevezze meg, hogy mely városokat jelölik a térképvázlatba írt számok!



1.
2.
3.
4.
5.

5 pont

b) Válasszon a városok sorszámának beírásával a következő kérdésekre!

a) Az USA űrkutatási központja.

b) Világpolitikai rangját mutatja, hogy itt található az ENSZ székháza.

c) Jelentős pénzügyi központ a déli körzetben.

3 pont

8 pont

2. Oldja meg a feladatokat a térképvázlat alapján!

a) Nevezze meg, hogy mit jelölnek a térképvázlatba írt számok!



1.- hegység
2. (város)
3. (város)
4. (folyó)
5. (város)
6.(nagyközség)

6 pont

b) Válaszoljon a térképvázlat számainak beírásával a következő kérdésekre!

a) Itt található az Opel motor- és sebességváltó-gyára.

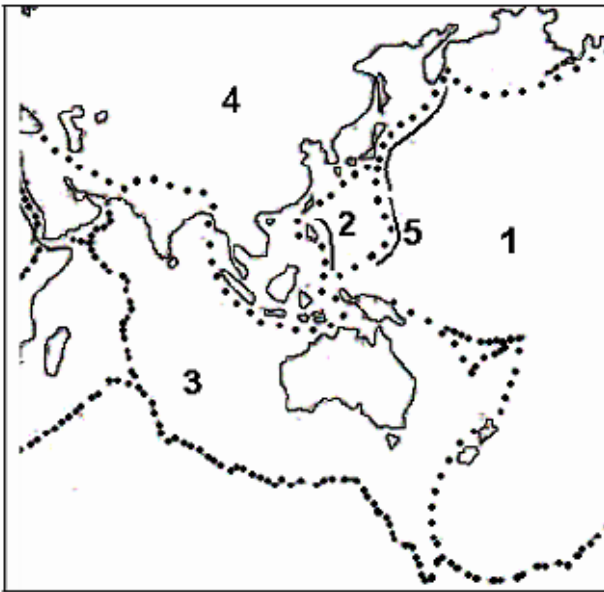
b) Gyógyfürdőjéről ismert település.

2 pont

8 pont

3. Oldja meg a feladatokat a térképvázlat alapján!

a) Nevezze meg, hogy mit jelölnek a térképvázlatba írt számok!



1. Csendes-óceáni - lemez
2. - lemez
3. - lemez
4. - lemez
5. - árok

4 pont	
--------	--

b) Válaszoljon a kérdésekre!

a) Milyen típusú kőzetlemez az 1-es és a 2-es számmal jelöltek?

.....

b) Hogyan mozdulnak el egymáshoz képest az 1-es és a 2-es számmal jelölt lemezek?

.....

c) Melyik két kőzetlemez mozgásának következménye a Föld legmagasabb hegységének kialakulása? Írja számukat a pontozott vonalra!

..... és

A hegység neve:

5 pont	
--------	--

9 pont	
--------	--

MEGOLDÁS
15. FELADATSOR

1. FELADAT

- a)
- | | |
|---------------|-------------------------------------|
| 1. Chicago | 1 pont |
| 2. Washington | 1 pont |
| 3. New York | 1 pont |
| 4. Atlanta | 1 pont |
| 5. Houston | 1 pont |
| | <input type="text" value="5 pont"/> |

- b)
- | | |
|-------|-------------------------------------|
| a) 5. | 1 pont |
| b) 3. | 1 pont |
| c) 4. | 1 pont |
| | <input type="text" value="3 pont"/> |

Összes elérhető pontszám: 8 pont

2. FELADAT

- a)
- | | |
|--------------------|-------------------------------------|
| 1. Kőszegi-hegység | 1 pont |
| 2. Szombathely | 1 pont |
| 3. Keszthely | 1 pont |
| 4. Rába | 1 pont |
| 5. Szentgotthárd | 1 pont |
| 6. Bük | 1 pont |
| | <input type="text" value="6 pont"/> |

- b)
- | | |
|-------|-------------------------------------|
| a) 5. | 1 pont |
| b) 6. | 1 pont |
| | <input type="text" value="2 pont"/> |

Összes elérhető pontszám: 8 pont

3. FELADAT

- a)
- | | |
|----------------------------|-------------------------------------|
| 1. | |
| 2. Fülöp-lemez | 1 pont |
| 3. Ausztrál – Indiai-lemez | 1 pont |
| 4. Eurázsiai-lemez | 1 pont |
| 5. Mariana-árok | 1 pont |
| | <input type="text" value="4 pont"/> |

- b)
- | | |
|-----------------------------|-------------------------------------|
| a) Óceáni | 1 pont |
| b) Közelednek vagy ütköznek | 1 pont |
| c) 3. és 4.
Himalája | 1+1 pont
1 pont |
| | <input type="text" value="5 pont"/> |

Összes elérhető pontszám: 9 pont

Az első feladatlappal-résszel elérhető összes pontszám: 25 pont

16. FELADATSOR

1. Válaszoljon a kérdésekre!

- a) A híradásokban sokszor hallunk országokról és városokról. Az egyik napon a hírműsorban az alábbi táblázatban összegyűjtött földrajzi nevek hangzottak el. Egészítse ki a táblázatot!

Ország	Főváros
Törökország	
	Brüsszel
	Helsinki
Brazília	
Indonézia	
	Zágráb

6 pont

- b) Nevezze meg a táblázat országai közül azt a kettőt, amelyekben nem a főváros a legnagyobb, legjelentősebb város!

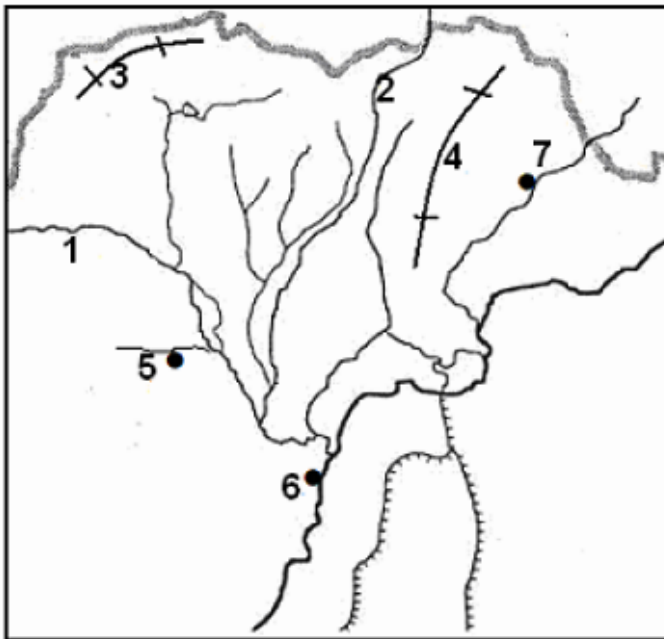
.....
.....

2 pont

8 pont

2. Oldja meg a feladatokat a térképvázlat alapján!

a) Nevezze meg, hogy mely földrajzi helyeket jelölik a térképvázlatba írt számok!



- 1. (folyó)
- 2. (folyó)
- 3. (hegység)
- 4.-hegység
- 5. (város)
- 6. (város)
- 7. (város)

7 pont

b) Mely kőzet építi fel döntően a 3-as számmal jelölt hegységet?

.....

1 pont

c) Válaszoljon a következő kérdésre a térképvázlat számának beírásával!

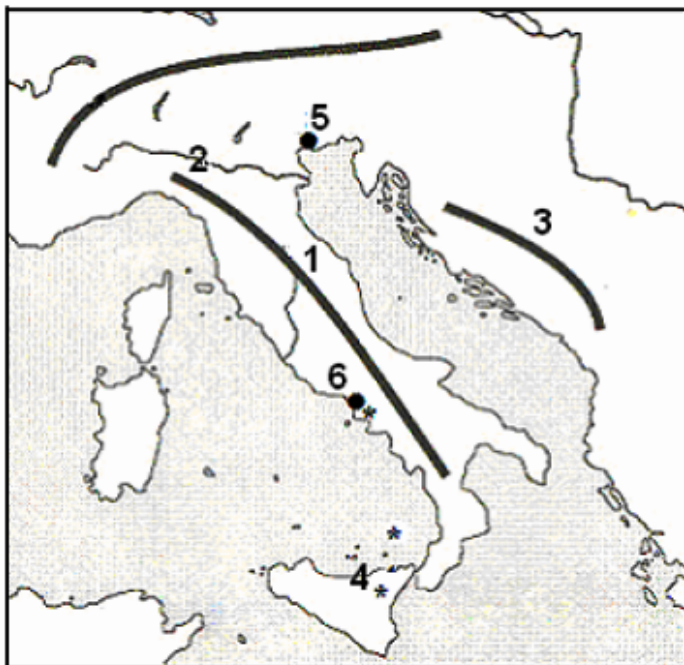
Hazánk egyik fontos petrokémiai központja.

1 pont

9 pont

3. Oldja meg a feladatokat a térképvázlat alapján!

a) Nevezze meg, hogy mely földrajzi helyeket jelölik a térképvázlatba írt számok!



1. (hegység)
2. (folyó)
3.-hegység
4. (vulkán)
5. (város)
6. (város)

6 pont

b) Melyik hegységrendszerhez tartozik az 1-es és a 3-as számmal jelölt hegység?

.....

1 pont

c) Mely vulkáni típusba tartozik a 4-es számmal jelölt vulkán? Húzza alá a megfelelő választ! *Több lehetőség megjelölése hibás megoldásnak minősül.*

hasadékvulkán

rétegvulkán

pajzsvulkán

1 pont

8 pont

MEGOLDÁS
16. FELADATSOR

1. FELADAT

a)

Ország	Főváros
Törökország	<i>Ankara</i>
<i>Belgium</i>	Brüsszel
<i>Finnország</i>	Helsinki
Brazília	<i>Brazíliaváros /Brasília</i>
Indonézia	<i>Jakarta /Dzsakarta</i>
<i>Horvátország</i>	Zágráb

Minden helyes beírás 1 pont.

6 pont

b)

Törökország

1 pont

Brazília

1 pont

Megjegyzés: A sorrend nem számít.

2 pont

Összes elérhető pontszám: 8 pont

2. FELADAT

a)

1. Sajó

1 pont

2. Hernád

1 pont

3. Aggteleki (-karszt)

1 pont

4. Zempléni (-hegység)

1 pont

5. Miskolc

1 pont

6. Tiszaújváros

1 pont

7. Sárospatak

1 pont

7 pont

b) Mészkö.

1 pont

1 pont

c) 6.

1 pont

1 pont

Összes elérhető pontszám: 9 pont

3. FELADAT

a)

- | | |
|-------------------|--------|
| 1. Appenninek | 1 pont |
| 2. Pó | 1 pont |
| 3. Dinári-hegység | 1 pont |
| 4. Etna | 1 pont |
| 5. Velence | 1 pont |
| 6. Nápoly | 1 pont |

6 pont

b)

Eurázsiai-hegységrendszerhez. 1 pont

1 pont

c)

Aláhúzva: rétegvulkán. 1 pont

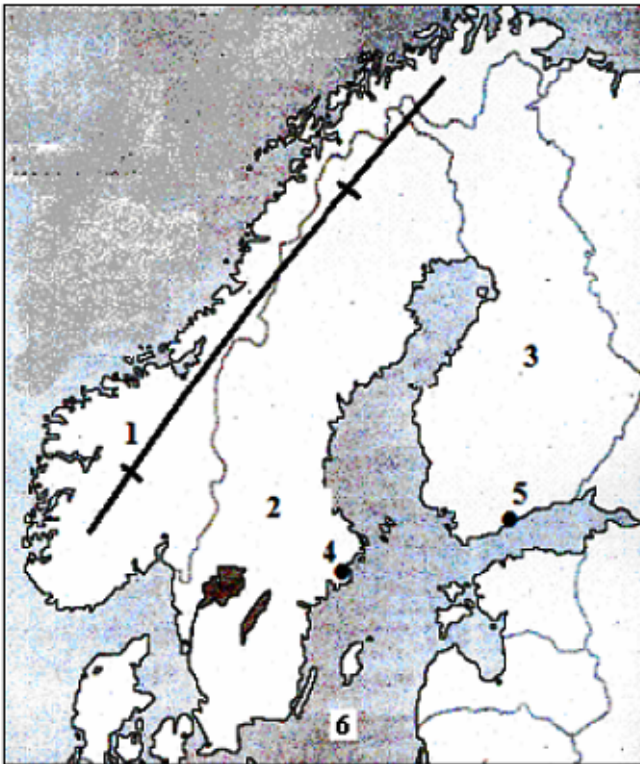
1 pont

Összes elérhető pontszám: 8 pont

17. FELADATSOR

1. Oldja meg a feladatokat a térképészlet alapján!

a) Nevezze meg, mely földrajzi helyeket (fogalmakat) jelölik a térképészletbe írt számok!



- 1.-hegység
- 2. (ország)
- 3. (ország)
- 4. (főváros)
- 5. (főváros)
- 6. -tenger

6 pont

b) Melyik földtörténeti időben keletkezett az 1-es számmal jelölt hegység?

.....

Nevezze meg világviszonylatban is jelentős ásványkincsét!

.....

2 pont

c) Melyik külső erő alakította ki döntően Észak-Európa mai formakincsét?

.....

1 pont

9 pont

2. Olvassa el a szöveget, és a térkép alapján válaszoljon a kérdésekre!

Egy légi felvételeket készítő helikopter Budapestről indult. A térképen berajzolt útvonalat megtéve az A betűvel jelölt megyeszékhelyen szállt le.



a) Mely megyéket érintette a helikopter az útja során? Írja a megyék nevét a repülés irányának megfelelő sorrendben a vonalakra!

1. 2.
3. 4.
5. 6.

6 pont

b) Nevezze meg az A betűvel jelölt települést!

.....

1 pont

c) Melyik folyónk felett repülhetett el az alábbiak közül? Húzza alá a folyó nevét! *Több folyó megjelölése hibának minősül.*

Rába Tisza Duna Körös

1 pont

8 pont

3. Oldja meg a feladatokat a térképvázlat alapján!

a) Nevezze meg, mely földrajzi helyeket jelölik a térképvázlatba írt számok!



- 1. (hegység)
- 2. (főváros)
- 3. (város)
- 4. (város)
- 5. (folyó)
- 6. (ország)

6 pont

b) Milyen típusú kőzetlemez-mozgás játszik szerepet az 1-es számmal jelölt hegység kialakulásában? Húzza alá a megfelelőt! *Több lehetőség megjelölése hibának minősül.*

távolodó lemezszegély mozgás

közeledő lemezszegély mozgás

elcsúszó lemezszegély mozgás

Karikázza be a hegységre jellemző felépítő kőzet nevét! *Több lehetőség megjelölése hibának minősül.*

mészkö

andezit

dolomit

bazalt

2 pont

8 pont

MEGOLDÁS
17. FELADATSOR

1. FELADAT

a)

- | | |
|----------------------|--------|
| 1. Skandináv-hegység | 1 pont |
| 2. Svédország | 1 pont |
| 3. Finnország | 1 pont |
| 4. Stockholm | 1 pont |
| 5. Helsinki | 1 pont |
| 6. Balti-tenger | 1 pont |

6 pont

b) Óidő

1 pont

Vasérc

1 pont

2 pont

c) A belföldi jég/jég.

1 pont

1 pont

Összes elérhető pontszám: 9 pont

2. FELADAT

a)

- | | |
|---------------------------------|--------|
| 1. Pest megye | 1 pont |
| 2. Nógrád megye | 1 pont |
| 3. Heves megye | 1 pont |
| 4. Borsod-Abaúj-Zemplén megye | 1 pont |
| 5. Hajdú-Bihar megye | 1 pont |
| 6. Szabolcs-Szatmár-Bereg megye | 1 pont |

Megjegyzés: Az összetett megyenevek esetében csak a teljes válasz fogadható el.

6 pont

b) Nyíregyháza

1 pont

1 pont

c) Tisza

1 pont

1 pont

Összes elérhető pontszám: 8 pont

3. FELADAT

a)

- | | |
|----------------------------|--------|
| 1. Andok | 1 pont |
| 2. Braziliaváros /Brasília | 1 pont |
| 3. Rio de Janeiro | 1 pont |
| 4. São Paulo | 1 pont |
| 5. Amazonas | 1 pont |
| 6. Argentína | 1 pont |

6 pont

b) Aláhúzva: közeledő lemezzegély mozgás.

1 pont

Aláhúzva: andezit.

1 pont

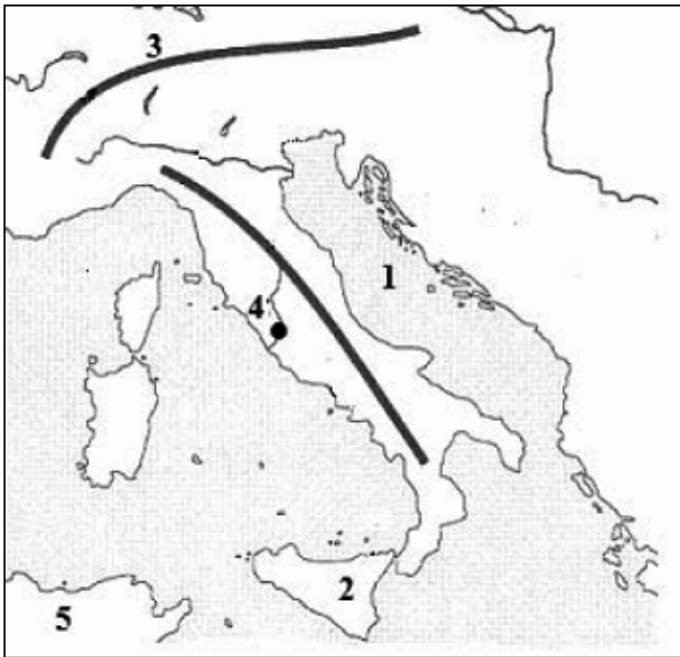
2 pont

Összes elérhető pontszám: 8 pont

18. FELADATSOR

1. Oldja meg a feladatokat a térképvázlat alapján!

a) Nevezze meg, mely földrajzi helyeket (fogalmakat) jelölik a térképvázlatba írt számok!



- 1. -tenger
- 2. (sziget)
- 3. (hegység)
- 4. (főváros)
- 5. (kontinens)

5 pont

b) Melyik nagyszerkezeti típusba tartozik a 3-as számmal jelölt hegység? Húzza alá a megfelelőt! *Több lehetséges megoldás bejelölése hibának minősül.*

röghegység

gyűrthegység

ősföld

1 pont

c) Nevezze meg azt a félszigetet, amelynek szomszédságában helyezkedik el a 2-es számmal jelölt sziget!

.....

1 pont

7 pont

2. Egészítse ki a táblázatot, és válaszoljon a kérdésekre!

- a) A táblázatba beírtuk a folyók nevét. Felsoroltuk a folyók partján fekvő városokat. Írja a város nevét annak a folyónak a neve mellé, amelynek a partján fekszik! *Nem tud minden várost elhelyezni a táblázatban.*

Varsó, Linz, Frankfurt, Köln, Párizs, Prága, London

Folyó	Város
1. Duna	
2. Rajna	
3. Szajna	
4. Temze	
5. Visztula	

5 pont

- b) Melyik folyó torkollik a Balti-tengerbe a fentiek közül?

.....

1 pont

- c) Nevezze meg azt a két folyót, amelyik több országon is keresztülfollik!

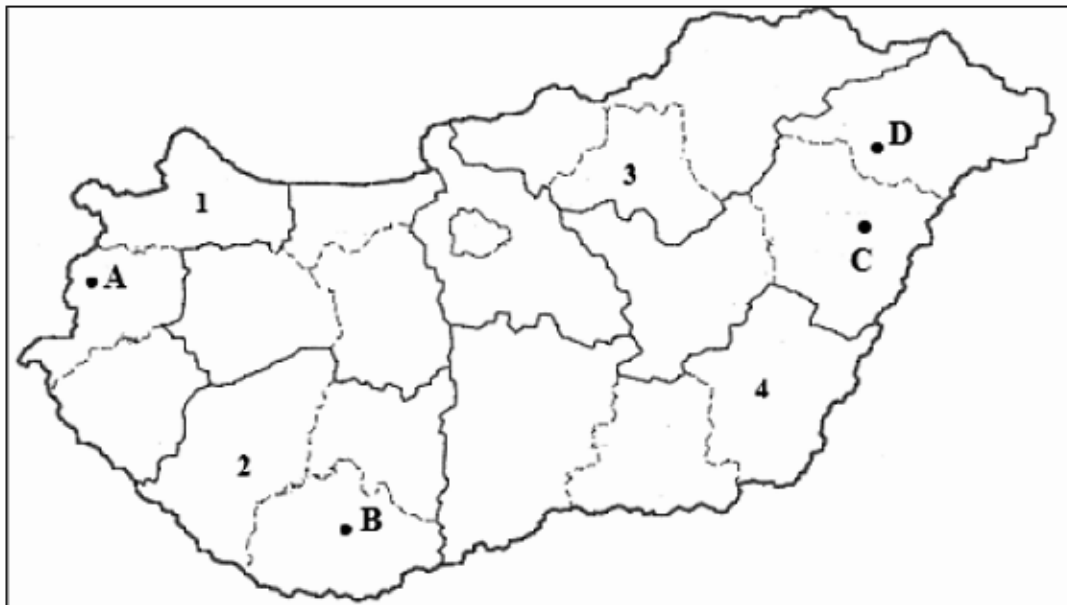
–

–

2 pont

8 pont

3. Oldja meg a feladatokat a térképvázlat alapján!



a) Nevezze meg a térképvázlaton számokkal jelölt megyéket!

1. 2.
3. 4.

4 pont

b) Nevezze meg a nagybetűkkel jelölt megyeszékhelyeket!

- A. B.
C. D.

4 pont

c) Szírozza be a térképen a Közép-Magyarország régió területét!

1 pont

d) Melyik régióhoz tartozik a 4-es számmal jelölt megye?

.....

1 pont

10 pont

Az első feladatlap-résszel elérhető összes pontszám: 25 pont

MEGOLDÁS

18. FELADATSOR

1. FELADAT

a)

- | | |
|------------------|--------|
| 1. Adriai-tenger | 1 pont |
| 2. Szicília | 1 pont |
| 3. Alpok | 1 pont |
| 4. Róma | 1 pont |
| 5. Afrika | 1 pont |

5 pont

b) Aláhúzva: gyűrthegység.

1 pont

1 pont

c) Appennini-félsziget

1 pont

1 pont

Összes elérhető pontszám: 7 pont

2. FELADAT

a)

- | | |
|-----------|--------|
| 1. Linz | 1 pont |
| 2. Köln | 1 pont |
| 3. Párizs | 1 pont |
| 4. London | 1 pont |
| 5. Varsó | 1 pont |

5 pont

b) Visztula

1 pont

1 pont

c) Duna, Rajna

1+1 pont

A sorrend nem számít.

2 pont

Összes elérhető pontszám: 8 pont

3. FELADAT

a)

- | | |
|----------------------------|--------|
| 1. Győr-Moson-Sopron megye | 1 pont |
| 2. Somogy megye | 1 pont |
| 3. Heves megye | 1 pont |
| 4. Békés megye | 1 pont |

4 pont

b)

- | | |
|----------------|--------|
| A: Szombathely | 1 pont |
| B: Pécs | 1 pont |
| C: Debrecen | 1 pont |
| D: Nyíregyháza | 1 pont |

4 pont

c) Pest megye és Budapest területének beszínezése.

1 pont

1 pont

d) Dél-Alföld régióhoz.

1 pont

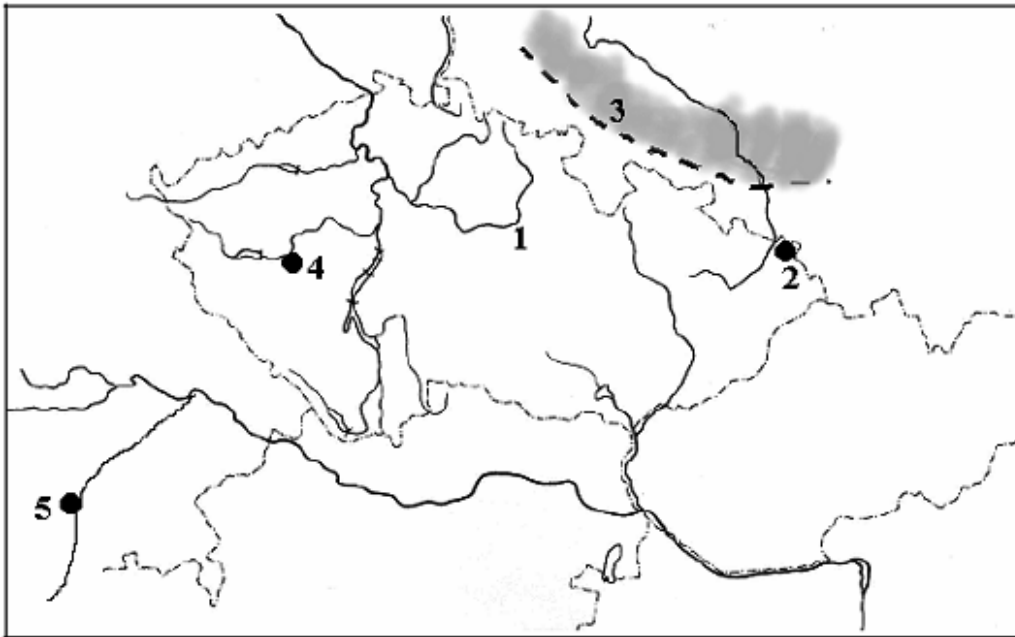
1 pont

Összes elérhető pontszám: 10 pont

Az első feladatlap-résszel elérhető összes pontszám: 25 pont

19. FELADATSOR

1. Tanulmányozza a térképvázlatot, amely Csehországot és a szomszédos területeket ábrázolja, majd oldja meg a hozzá kapcsolódó feladatokat!



- a) Nevezze meg, a térképvázlatban számokkal jelölt földrajzi fogalmakat!

1. (folyó)
 2. (város)
 3. (táj)
 4. (város)
 5. (város)

5 pont	
--------	--

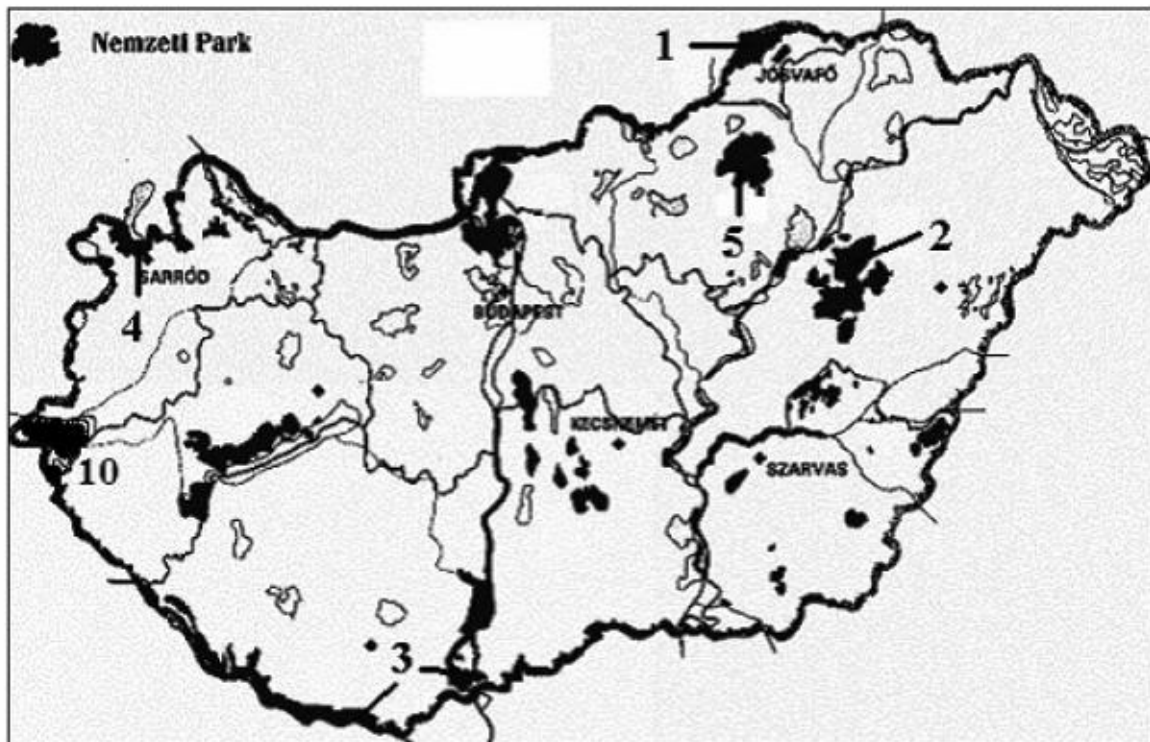
- b) Válaszoljon a következő meghatározásokra a térképvázlat számainak beírásával!

- A) A tájon hagyományos iparvidék alakult ki Lengyelországban:
- B) Bányászatáról és kohászatáról nevezetes város:
- C) A söripar mellett e városhoz kapcsolódik a Škoda márkanév is:
- D) A város két legismertebb vállalata a BMW és a Siemens:

4 pont	
--------	--

9 pont	
--------	--

2. Tanulmányozza a térképvázlatot, és oldja meg a hozzá kapcsolódó feladatokat!



a) A térképbe írt számok egy-egy nemzeti parkunkat jelölik. Írja a számok után a nemzeti park nevét!

- 1. Nemzeti Park
- 2. Nemzeti Park
- 3. Nemzeti Park
- 4. Nemzeti Park
- 5. Nemzeti Park

5 pont	
--------	--

b) Írja a számok után, hogy az adott nemzeti park mely régióhoz (tervezési-statisztikai körzethez) tartozik!

- 2.
- 3.
- 5.

3 pont	
--------	--

8 pont	
--------	--

3. Rendszerezze, mely óceánhoz kapcsolódnak (tartoznak) az alábbi tengerek, illetve öblök! Írja a megfelelő sorszámot a tengerek (öblök) neve után!

1. Csendes-óceán 2. Indiai-óceán 3. Atlanti-óceán 4. Egyikhez sem tartozik

Perzsa (Arab)-öböl	
Északi-tenger	
Japán-tenger	
Fekete-tenger	

Karib (Antilla)-tenger	
Holt-tenger	
Kaszpi-tenger	
Balti-tenger	

8 pont

A feladatlap-részrel elérhető összes pontszám: 25 pont

MEGOLDÁS

19. FELADATSOR

1. FELADAT

a)

1. Elba
2. Ostrava
3. Szilézia
4. Plzeň
5. München

Minden helyes megnevezés 1 pont.

5 pont

b)

- A) 3
- B) 2
- C) 4
- D) 5

1 pont

1 pont

1 pont

1 pont

4 pont

Összes elérhető pontszám: 9 pont

2. FELADAT

a)

1. Aggteleki Nemzeti Park
2. Hortobágyi Nemzeti Park
3. Duna–Dráva Nemzeti Park
4. Fertő–Hanság Nemzeti Park
5. Bükk Nemzeti Park

Minden helyes megnevezés 1 pont. Csak a teljes név esetén jár a pont.

5 pont

b)

2. Észak-Alföld régió
3. Dél-Dunántúl régió
5. Észak-Magyarország régió

1 pont

1 pont

1 pont

3 pont

Összes elérhető pontszám: 8 pont

3. FELADAT

Perzsa (Arab)-öböl	2.
Észak-tenger	3.
Japán-tenger	1.
Fekete-tenger	3.

Karib (Antilla)-tenger	3.
Holt-tenger	4.
Kaszipi-tenger	4.
Balti-tenger	3.

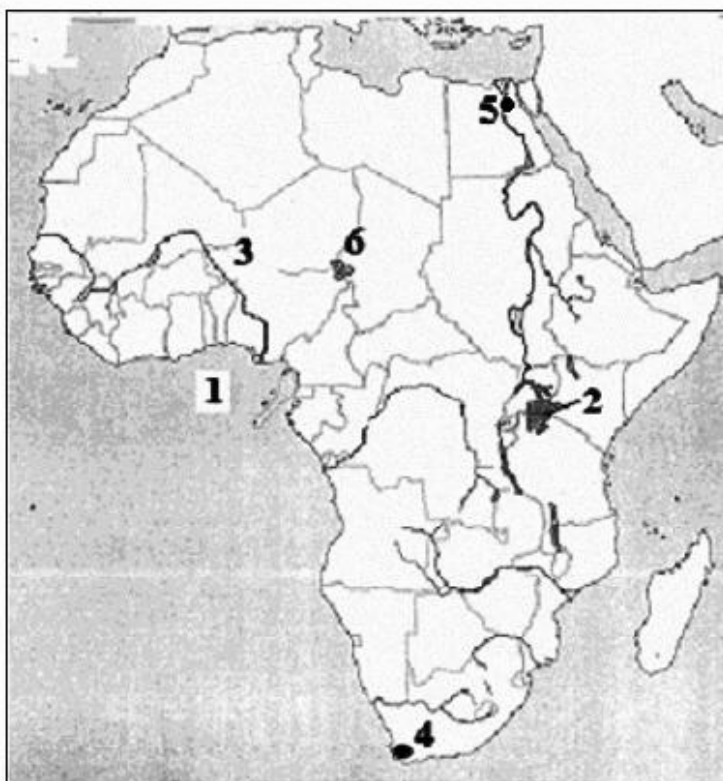
A Fekete-tenger esetében a 4. válasz is elfogadható.

Minden helyes beírt szám 1 pont.

Összes elérhető pontszám: 8 pont

20. FELADATSOR

1. Tanulmányozza a térképvázlatot, és oldja meg a hozzá kapcsolódó feladatokat!



a) Nevezze meg, mely vízrajzi elemeket, illetve városokat jelölik a térképvázlatba írt számok!

1. -öböl
2. -tó
3. (folyó)
4. (város)
5. (főváros)
6. -tó

6 pont

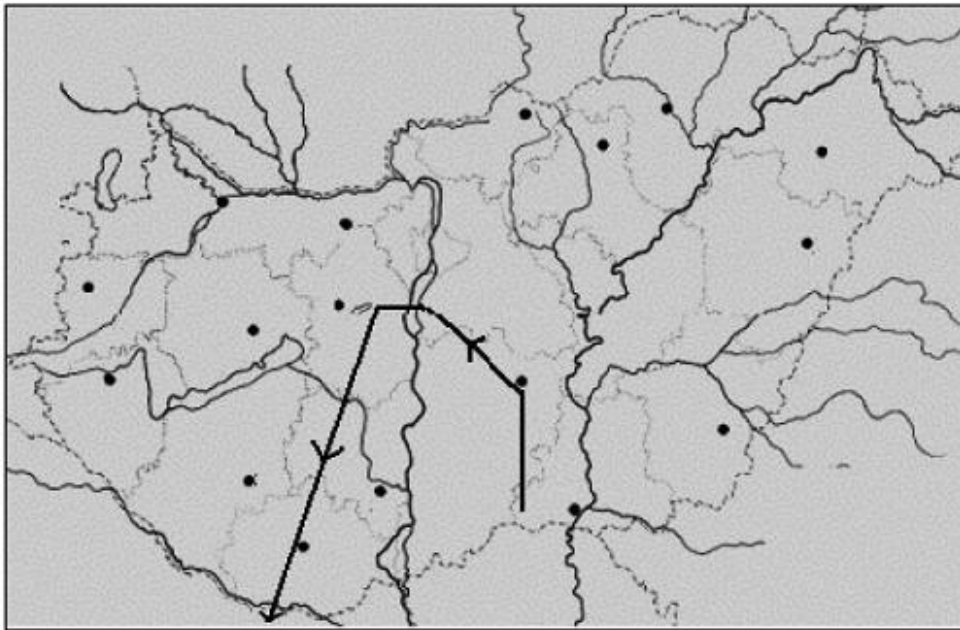
b) Milyen környezeti probléma veszélyezteti a 6-os számmal jelölt tavat?

.....
Mi a neve a térségnek, tájnak, amely területén található ez a tó?
.....

2 pont

8 pont

2. A déli országhatár közeléből egy helikopter száll fel, hogy légi felvételeket készítsen. A térkép vázlaton jelöltük az útvonalát. Tanulmányozza a térkép vázlatot, és oldja meg a hozzá kapcsolódó feladatokat!



a) Azonosítsa, és nevezze meg az alábbi földrajzi helyeket!

1. Megyeszékhely, amelynek közelében a pilóta ÉNy-i irányba fordul:
2. Sziget, amely felett elrepül a helikopter:
3. Az a megye, amely felett a gép DNy-i irányba fordulva folytatja útját:
4. Tó, amelyet keleti irányból közelít meg a helikopter:
5. Nemzeti park, amely felett elrepülve a gép elhagyja hazánk légterét.

.....

5 pont	
--------	--

b) Melyik országban folytatja útját a helikopter?

1 pont	
--------	--

c) Nevezze meg azt a Dél-Dunántúl régióhoz tartozó megyét és annak megyeszékhelyét, amelyet nem érint a helikopter útvonala!

megye:

székhelye:

2 pont	
--------	--

8 pont	
--------	--

3. Nevezze meg a térképvázlaton számokkal jelölt kikötőket!



- 1.
- 2.
- 3.
- 4.
- 5.
- 6.
- 7.
- 8.
- 9.

9 pont	
--------	--

<i>A feladatlap-résszel elérhető összes pontszám:</i>	25 pont	
---	----------------	--

MEGOLDÁS
20. FELADATSOR

1. FELADAT

a)

1. Guineai-öböl
2. Viktória-tó
3. Niger
4. Fokváros
5. Kairó
6. Csád-tó

Minden helyes megnevezés 1 pont.

6 pont

b)

a kiszáradás/ a vízszint, illetve a vízfelület csökkenése / az elöntözés
Száhel-öv / Szudán

1 pont

1 pont

2 pont

Összes elérhető pontszám: 8 pont

2. FELADAT

a)

1. Kecskemét
2. Csepel-sziget
3. Fejér megye
4. Velencei-tó
5. Duna–Dráva Nemzeti Park

Minden helyes megnevezés 1 pont.

5 pont

b)

Horvátország

1 pont

1 pont

c) Somogy (megye)

Kaposvár

1 pont

1 pont

2 pont

Összes elérhető pontszám: 8 pont

3. FELADAT

1. Barcelona
2. Glasgow
3. Marseille
4. Genova
5. Dubrovnik
6. Várna
7. Hamburg
8. Rotterdam
9. Nápoly

Minden helyes megnevezés 1 pont.

<i>Összes elérhető pontszám:</i>	<i>9 pont</i>
----------------------------------	---------------

<i>Az első feladatlap-részlet elérhető összes pontszám:</i>	<i>25 pont</i>
---	----------------

2. Egészítse ki a táblázatot, majd válaszoljon a kérdésekre!

Egy iskola tanulói evezőstáborban vettek részt az elmúlt években. A táborozásról naplót vezettek, amelyben felírták, hogy hol kötöttek ki. A napló azonban elveszett, és csak a nagyobb településekre emlékeztek a túrázók.

- a) Segítsen a diákoknak, és írja a táblázatba a városok neve mellé, hogy melyik folyónkon szervezték az adott tanévben az evezőstábort!

Tanév	Kikötőhely	Folyó
2000/2001.	Makó	1.
2001/2002.	Gyula	2.
2002/2003.	Szeged	3.
2003/2004.	Esztergom	4.

4 pont

- b) 2005 nyarán Tokajban a Tokaji-hegy (Nagy-hegy) lábánál, a két folyó összefolyásánál fekvő hangulatos kempingben töltöttek néhány napot. Nevezze meg a két folyót!

.....

2 pont

- c) A következő jellemzők a fenti táblázatban szereplő két kikötőhelyre vonatkoznak. Írja a megfelelő város nevét a megállapítás után!

1. Egyetemi és kulturális központ, környékén hazai viszonylatban jelentős szénhidrogén-lelőhelyek találhatók.

2. Hazánk egyik jelentős személygépkocsi-gyártó központja.

2 pont

8 pont